

С.П. ПАЛАШКЕВИЧ, Е.В. РЕЗНИКОВА

МАТЕМАТИКА

ДЛЯ ДЕТЕЙ 6-7 ЛЕТ С
ЗАДЕРЖКОЙ ПСИХИЧЕСКОГО РАЗВИТИЯ



РАБОЧАЯ ТЕТРАДЬ

ДЛЯ ПОДГОТОВКИ К ШКОЛЬНОМУ ОБУЧЕНИЮ

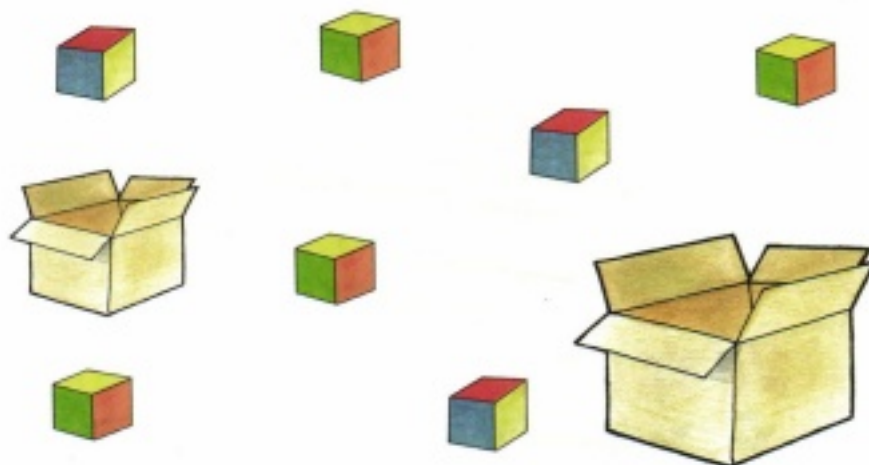
ЧЕЛЯБИНСК
2024

Занятие 1

- 1 Покажи на картинке, где груш много? Где одна?
Раскрась много груш жёлтым цветом.
Одну – в красный.



- 2 В маленькую коробку положи один кубик.
В большую – много. Для этого проведи линии
от кубиков к коробкам.



Занятие 2


- 1 Назови тех, кто находится внутри (снаружи).



- 2 Соедини линией одинаковые домики.

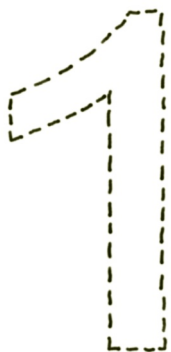


- 3 Назови одним словом нарисованные предметы.



Занятие 3

1




- Обведи цифру "1" по контуру.
- Раскрась цифру "1" красным карандашом.

2

Найди цифру "1" и обведи её в кружок.


1	3	5	2	4	1
4	1	2	1	3	2

3




Чего у кошки по одному?
Назови части тела.
Раскрась её, не выходя
за контуры.

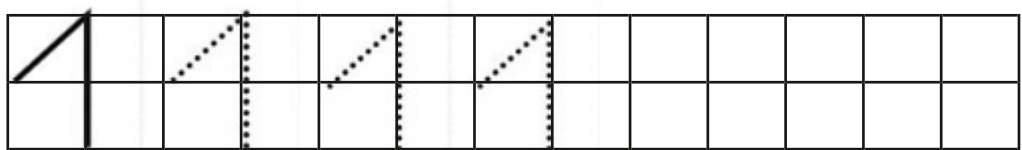
4 Раскрась яблоки, на которых написана цифра "1", зелёным цветом.



5 Назови предметы, которых нарисовано по одному



6 Напиши цифру "1"

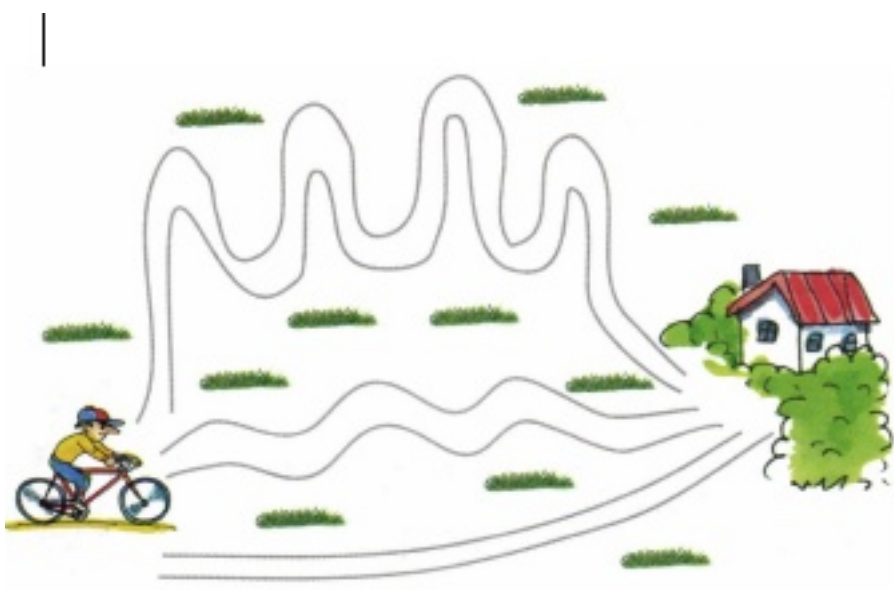


Занятие 4

- 1 Каждый зайчик съест по одной морковке. Проведи линии от зайчиков к морковкам. Всем ли зайчикам хватит морковок?




- 2 Самую длинную дорогу раскрась в жёлтый цвет. Самую короткую – в зелёный.

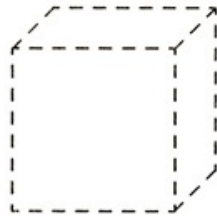


Занятие 5

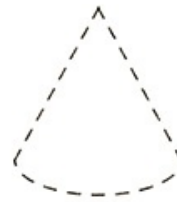
- 1 Назови геометрические фигуры, обведи их по контуру и раскрась их.



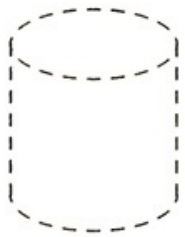
ШАР



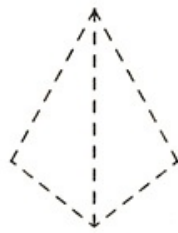
КУБ




КОНУС



ЦИЛИНДР

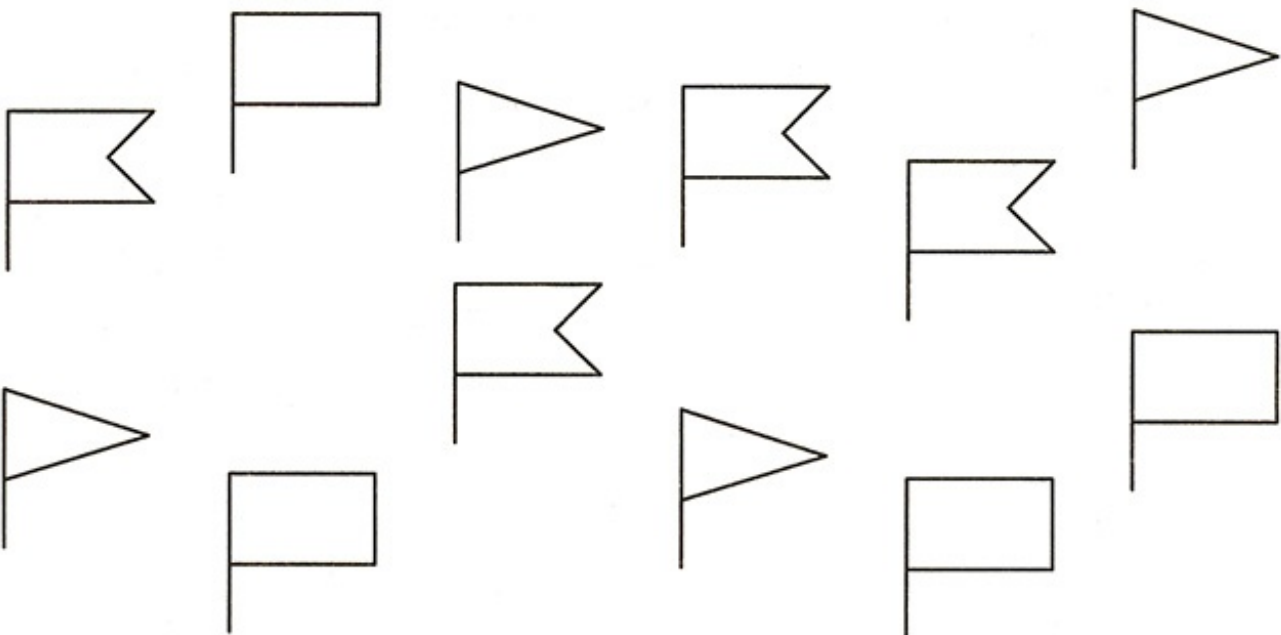


ПИРАМИДА



ПАРАЛЛЕЛЕПИПЕД


- 2 Найди одинаковые флажки и соедини их линией.



- 3 Потренируйся писать цифру "1":
нарисуй ёжику колючки-единицы.



- 4 Назови геометрические фигуры, которые нарисованы на этой странице. Овал превратился в рыбку. Преврати оставшиеся фигуры в какие-нибудь предметы.



Занятие 6

1



- Обведи цифру "2" по контуру.
- Раскрась цифру "2" синим карандашом.


2

Найди цифру "2" и обведи её в кружок.


1	2	4	2	3	5
2	3	2	0	4	2

3

Назови части тела собаки, которых у неё по 2.



- 4 Раскрась листья с цифрой "2"
жёлтым цветом.



- 5 Засели цифры в

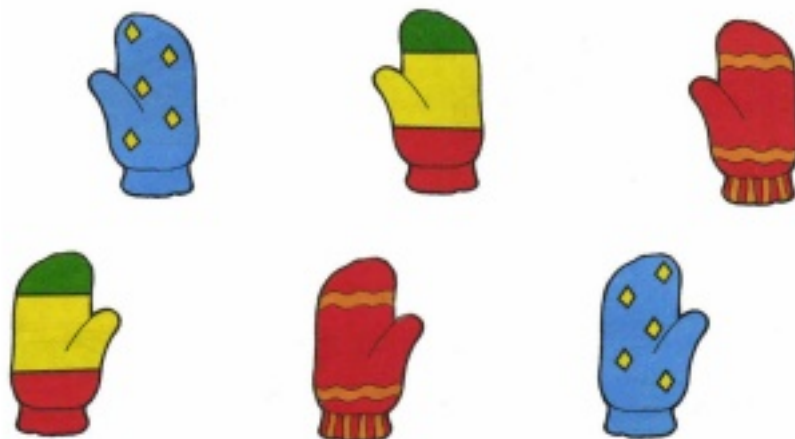


- 6 Напиши цифру "2".


2	2	2	2						
---	---	---	---	--	--	--	--	--	--

Занятие 7

- 1 Соедини линией парные варежки.




- 2 У каждой бабочки на крылышках должно быть одинаковое количество точек.
Дорисуй недостающие точки.



Занятие 8

- 1 Положи на каждую тарелку по пирожному. Каких предметов больше (меньше)?
Сделай так, чтобы тарелок и пирожных стало поровну, по 2. (Зачеркни 1 тарелку).



- 2 Раскрась в зелёный цвет дорожку от лисёнка к норе. В жёлтый – от щенка к будке.

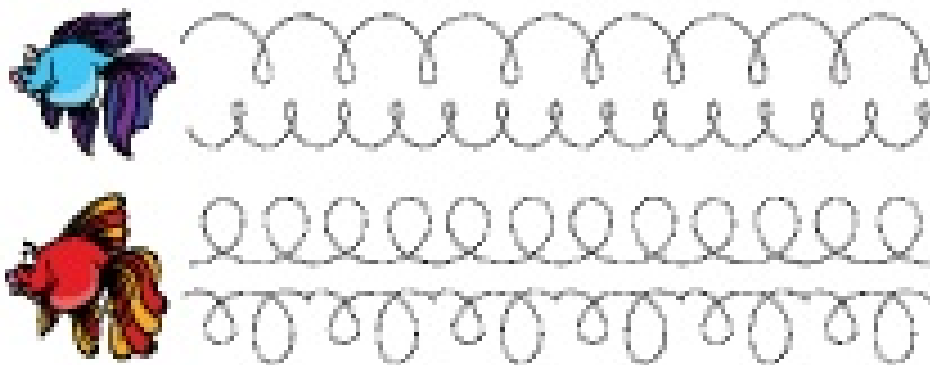


Занятие 9

- 1 Придумай условие задачи и реши её.



- 2 Обведи узор и продолжи его.



- 3 Потренируйся писать цифру «2»: нарисуй лебедю пёрышки.



- 4 Засели в домик пропущенные цифры и реши примеры.



$1 + 1 =$	$2 - 1 =$
$1 + 0 =$	$0 + 2 =$
$2 + 0 =$	$0 + 1 =$
$1 - 1 =$	$1 + 1 =$

Занятие 10

1



- Обведи цифру "3" по контуру.
- Раскрась цифру "3" зелёным карандашом.




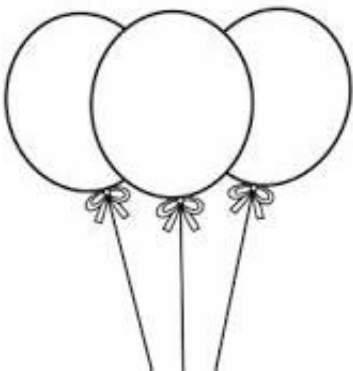
2

Найди цифру "3" и обведи её в кружок.

4 1 2 3 1 3
5 3 0 4 5 2


3

Сосчитай предметы и отметь точками в квадрате.



4

Найди всех животных, раскрась их и посчитай.



5

Засели цифры в домик.



6

Напиши цифру "3".

3	3	3	3						
---	---	---	---	--	--	--	--	--	--

Занятие 11

- 1 На какую по счёту ступеньку должна подняться лисичка, чтобы оказаться на середине лестницы?



- 2 Расставь знаки: « + », « - », « = ».



Занятие 12

1



- Обведи цифру "4" по контуру.
- Раскрась цифру "4" жёлтым карандашом.




2

Найди цифру "4" и обведи её в кружок.

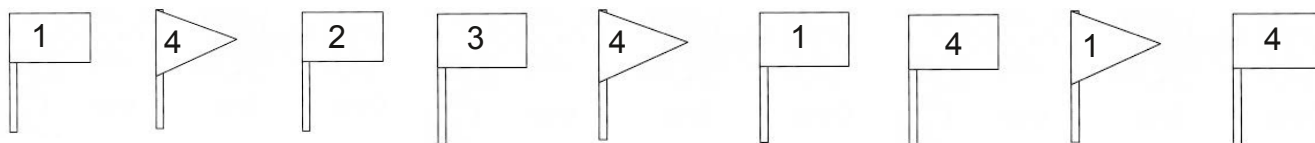
4 1 2 4 5 4
2 4 3 0 4 1

3


Сосчитай предметы и отметь точками в квадрате.



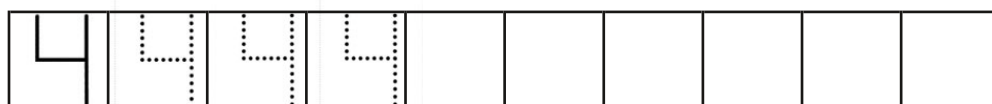
- 4 Раскрась флажки с цифрой «4» красным цветом.
Сколько красных флажков получилось?



- 5 Засели цифры в домики.




- 6 Напиши цифру "4".



Занятие 13

- 1 Сосчитай и запиши, сколько игрушек на верхней полке шкафа? Сколько на нижней?



- 2 Яблоки на дереве раскрась в красный цвет.
Под деревом – в жёлтый.
Покажи тех детей, которые стоят около дерева,
которые стоят далеко от дерева.

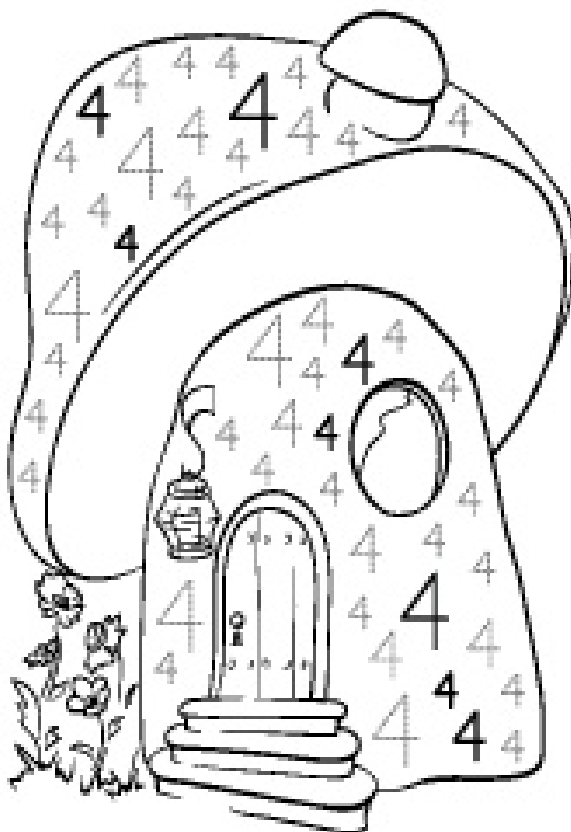


Занятие 14


- 1 Найди пару каждой рукавичке и соедини их линией. Раскрась их.



2 Потренируйся писать цифру «4».



3 Нарисуй дорожки сначала по пунктиру, затем самостоятельно.



Занятие 15

1



- Обведи цифру "5" по контуру.
- Заштрихуй цифру "5" линиями с лева на право.



2

Найди цифру "5" и обведи её в кружок.


5 3 5 1 4 5
2 1 3 5 3 0

3


Сосчитай предметы и отметь точками в квадрате.



- 4 Сосчитай кружочки у гусеницы, раскрась их разными цветами.



- 5 Засели цифры в домики.











- 6 Напиши цифру «5».


5	5	5	5						
---	---	---	---	--	--	--	--	--	--

Занятие 16

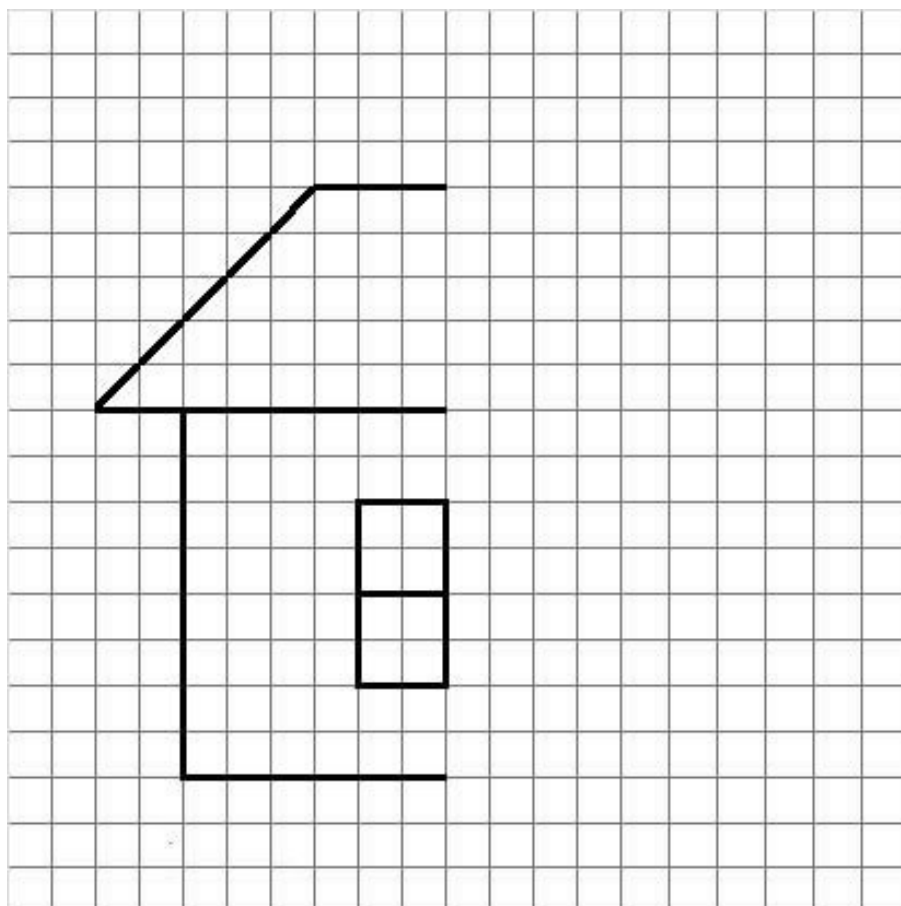
1 Выполни по образцу.

	
$2-1 = 1$	$4-1 = \square$
	
$3-1 = \square$	$4-3 = \square$
	
$3-2 = \square$	$4-1 = \square$
	
$2-2 = \square$	$5-1 = \square$

2 Продолжи узор.



3 Дорисуй вторую половину домика.

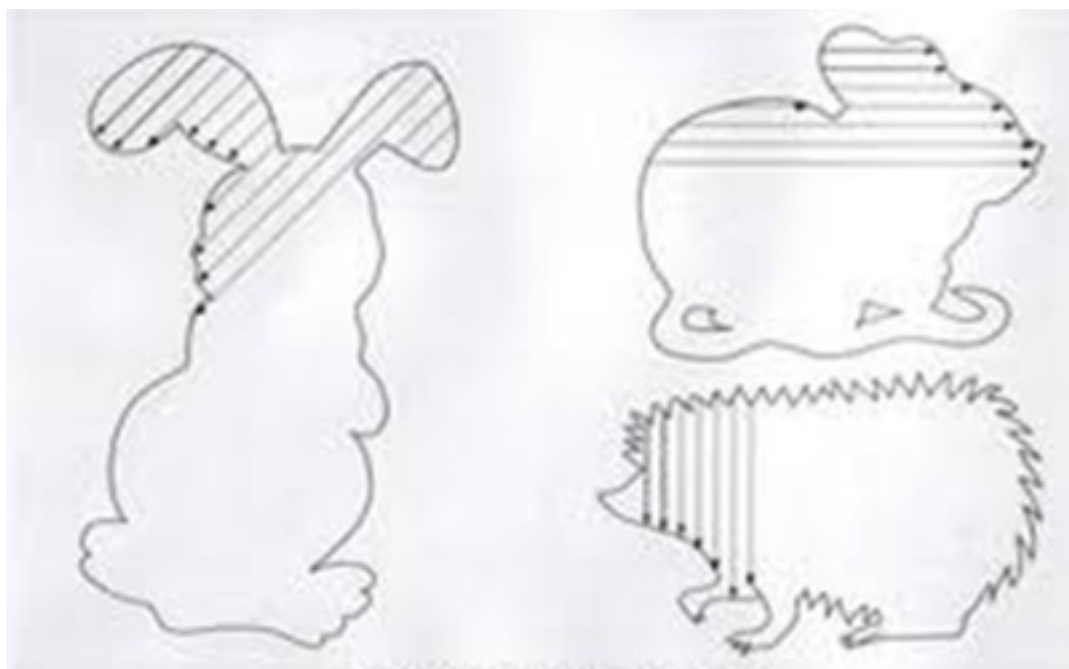


4 Помоги Красной Шапочке добраться до бабушки.






Занятие 17


1 Закончи штриховку фигур.



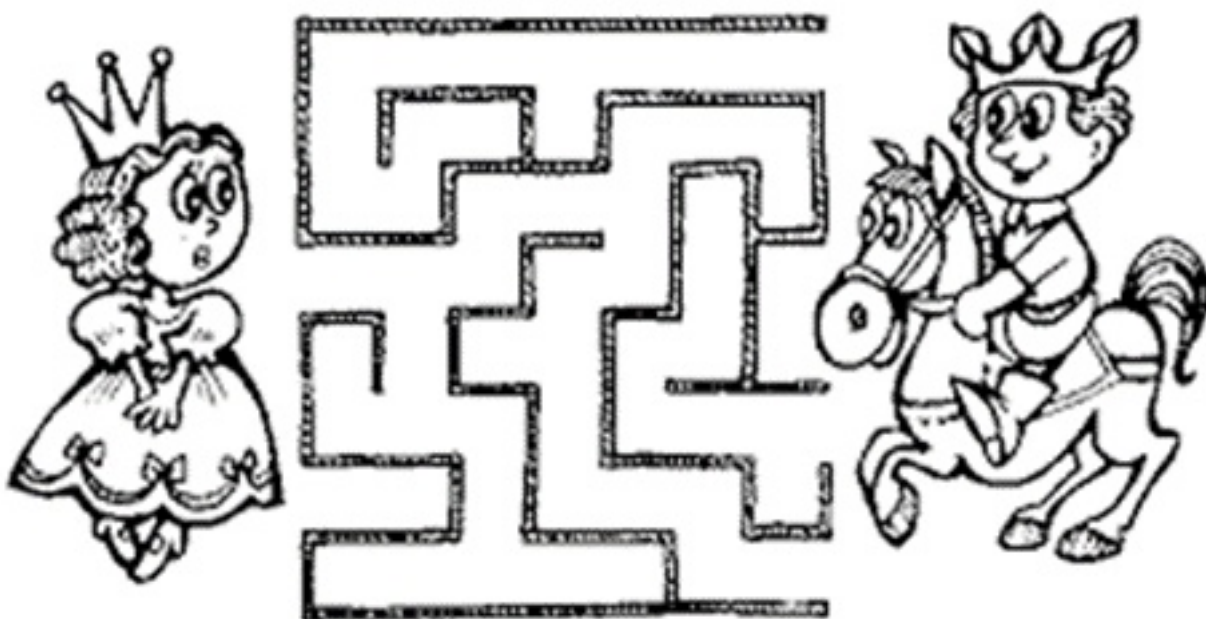
2 Раскрась картинки. Обведи узор по контуру и продолжи его.



3 Потренируйся писать цифру «5».



4 Помоги принцу встретиться с принцессой.



Занятие 18

1



- Обведи цифру "6" по контуру.
- Заштрихуй цифру "6" линиями с верху вниз.


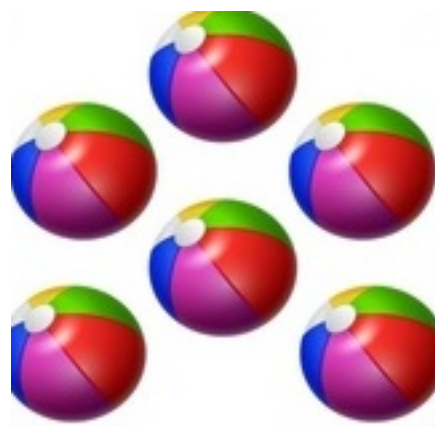

2

Найди цифру "6" и обведи её в кружок.



6 4 5 6 0 6
3 6 2 1 6 4

3

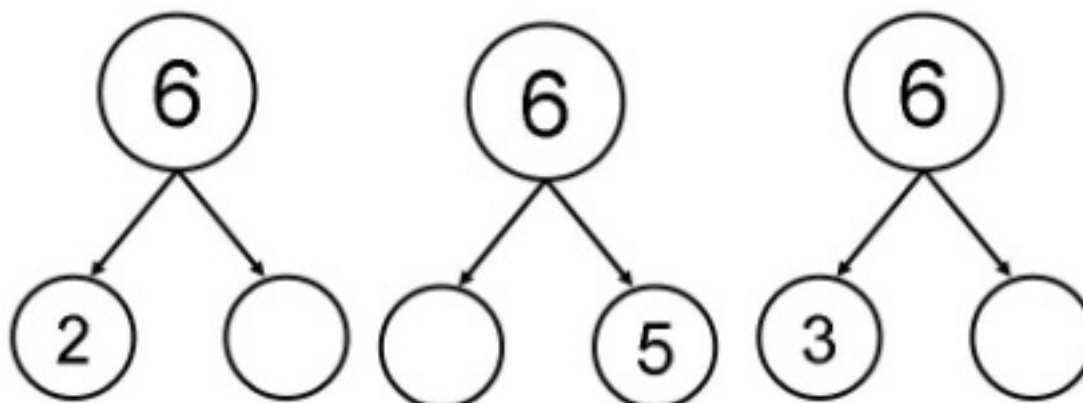
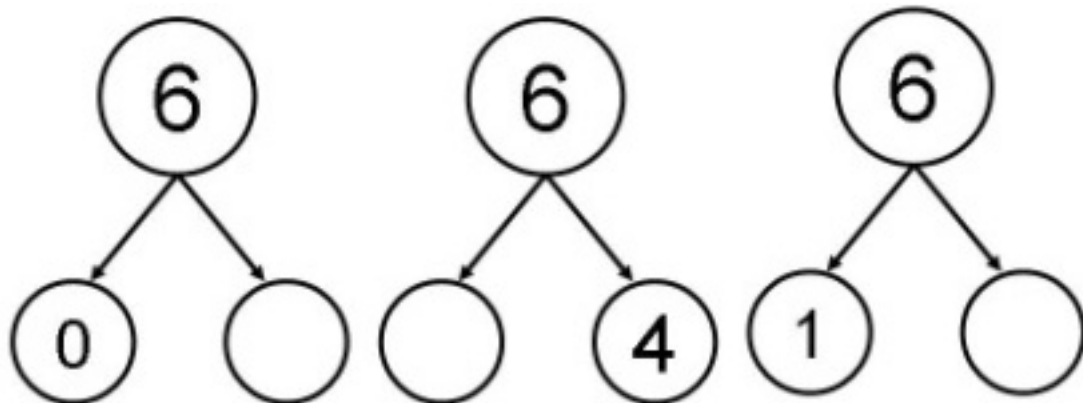
Сосчитай предметы и отметь точками в квадрате.



- 4 Нарисуй точки божьей коровке: первой – 4, второй – 6.



- 5 Впиши недостающие числа.




Занятие 19

- 1 Напиши цифру «6».

6	6	6	6						
---	---	---	---	--	--	--	--	--	--

- 2 Раскрась цветы по цифрам: 1- оранжевым, 2- жёлтым, 3- светло-зелёным, 4- темно-зеленым, 5- голубым, 6- фиолетовым.



Занятие 20

1



- Обведи цифру "7" по контуру.
- Заштрихуй цифру "7" линиями снизу вверх.



2

Найди цифру "7" и обведи её в кружок.

7 5 4 7 0 7
6 7 2 1 7 3

3

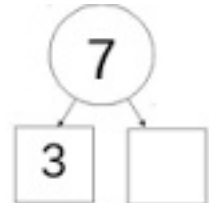
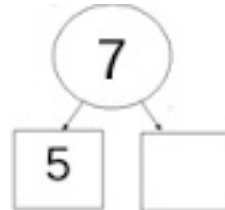
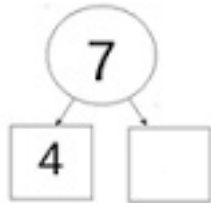
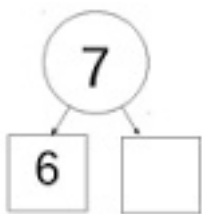
Сосчитай, сколько орехов у белочки и отметь точками в квадрате.



4 Нарисуй на елочке 7 шишек.



5 Впиши недостающие числа.




6 Напиши цифру «7».


7	7	7	7						
---	---	---	---	--	--	--	--	--	--

Занятие 21

- 1 Реши примеры. Яблоки с одинаковым ответом раскрась одним цветом. Сколько пар получилось?





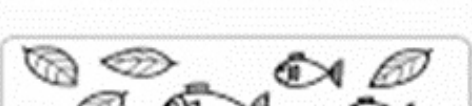


- 2 Раскрась все цветы также, как первый. Назови их цвета и посчитай, сколько лепестков у цветов.



Занятие 22


- 1 Реши примеры и соедини линией с правильным ответом.

	$3+2$
	$4+3$
	$3+3$
	$4+3$
	$5+1$

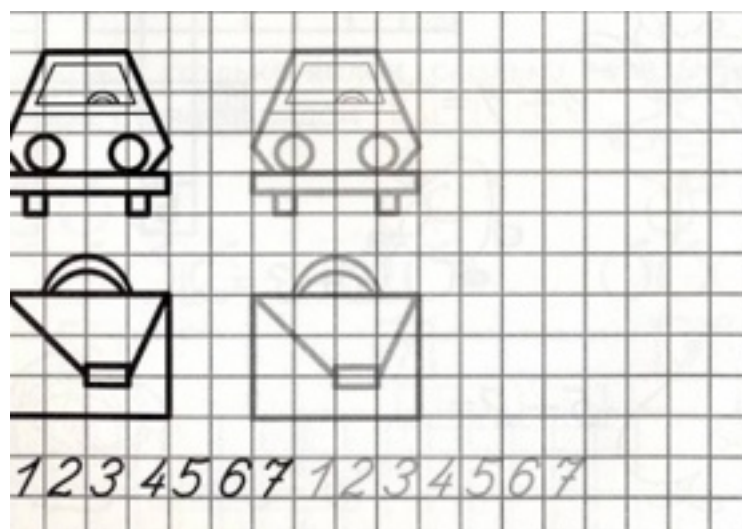
- 2 Проведи прямые линии дождя, не отрывая руки от бумаги.



3 Сосчитай предметы и раскрась
нужную карточку с ответом.



4 Дорисуй картинку по образцу и раскрась её.



Занятие 23

1



- Обведи цифру "8" по контуру.
- Придумай узор и раскрась цифру.



2

Найди цифру "8" и обведи её в кружок.

8 7 8 1 8 2
4 5 6 8 3 8

3

Сосчитай, сколько яблок в тарелке и отметь точками в квадрате.



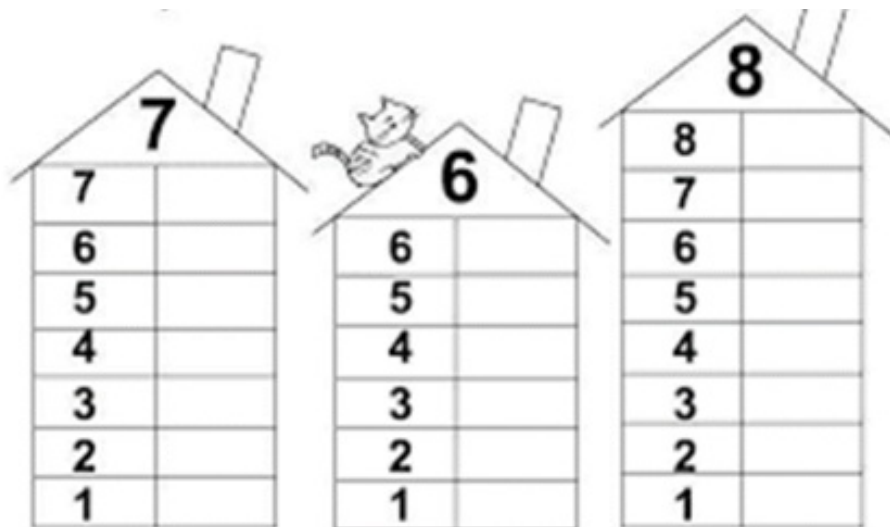
4

Украсть мешок Деда Мороза, нарисуй 8 снежинок и раскрась его.



5

Посчитай с котиком, сколько этажей в каждом домике.



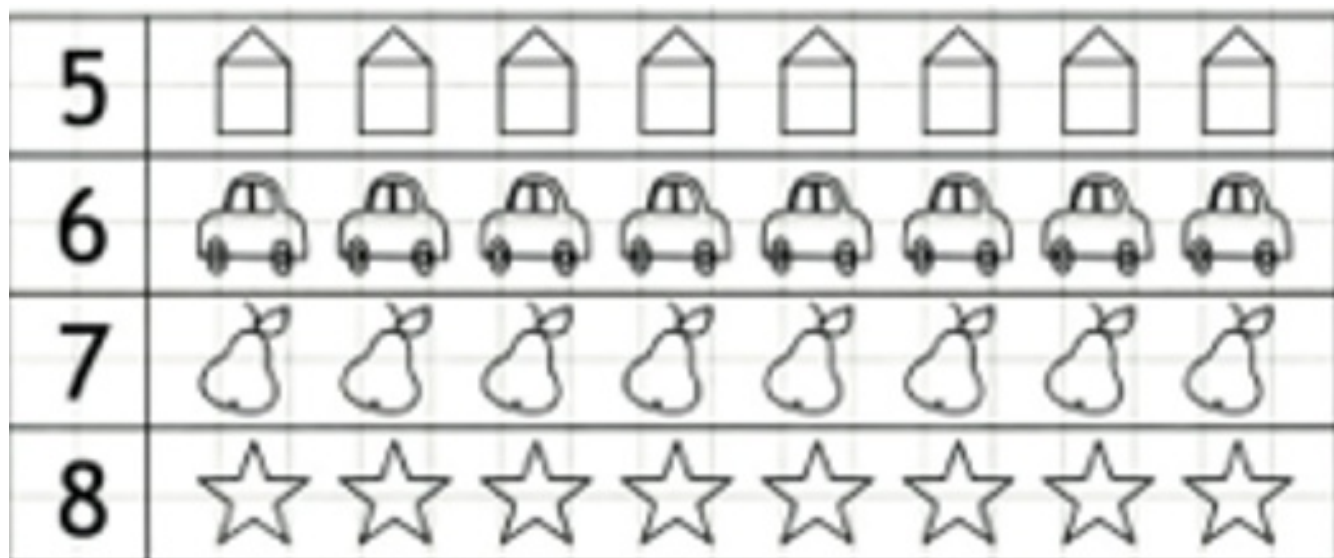
6

Напиши цифру «8».

8	8	8	8						
---	---	---	---	--	--	--	--	--	--

Занятие 24

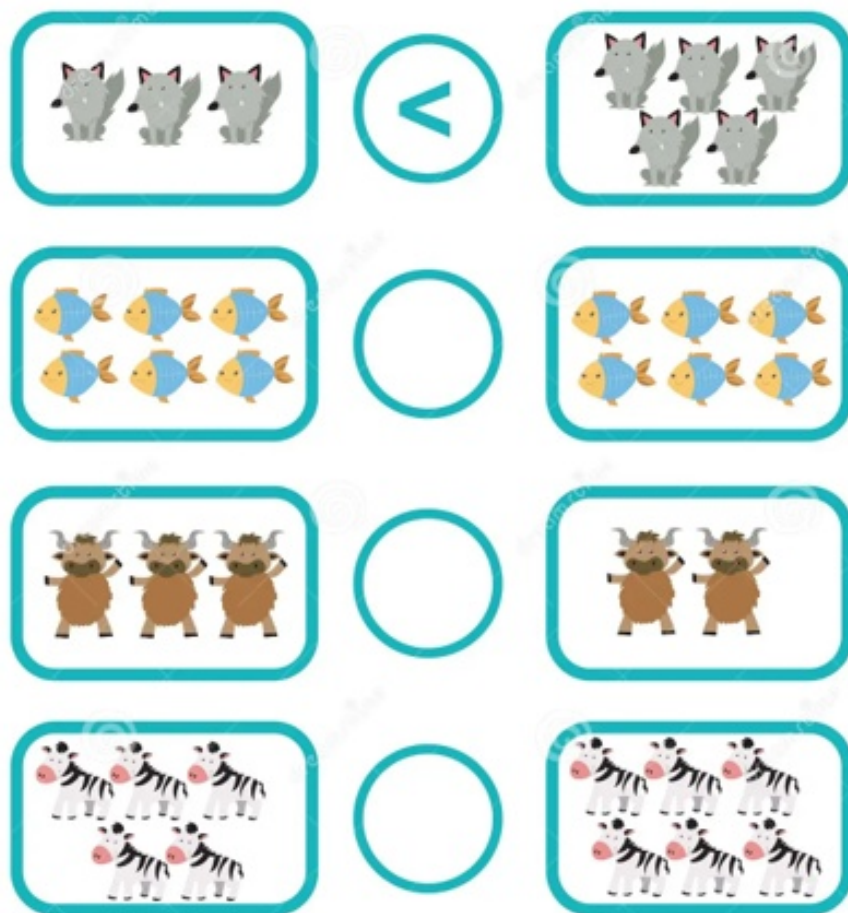
- 1 Раскрась на картинке столько предметов, сколько показано цифрой.




- 2 Вставь пропущенные числа.

7 +	= 8	8 - 1 =
6 +	= 8	8 - 2 =
5 +	= 8	8 - 3 =
4 +	= 8	8 - 4 =
3 +	= 8	8 - 5 =
2 +	= 8	8 - 6 =
1 +	= 8	8 - 7 =

3 Посчитай предметы и поставь знаки « > », « < » или « = ».



4 Повтори узор.



Занятие 25

1



- Обведи цифру "9" по контуру.
- Укрась цифру кружочками.



2

Найди цифру "9" и обведи её в кружок.

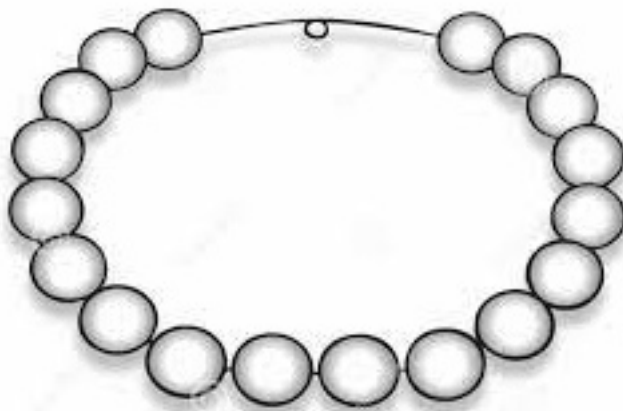
9 4 5 7 6 9
8 9 0 9 9 1

3

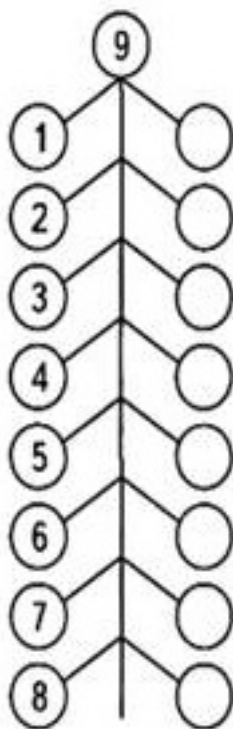
Сосчитай птиц на дереве и отметь
точками в квадрате.



- 4 Раскрась 9 бусин красным цветом,
9 бусин жёлтым.



- 5 Из каких чисел состоит число «9»?

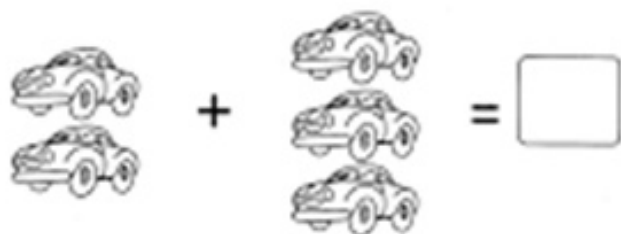
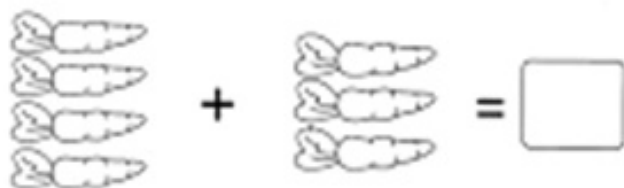


- 6 Напиши цифру «9».


9	9	9	9						
---	---	---	---	--	--	--	--	--	--

Занятие 26

1 Реши примеры.



2 Впиши в пустые клетки домиков соседей указанных чисел.



3

Поставь знак « > », « < » или « = ».

7 ○ 8

9 ○ 4

8 ○ 5

2 ○ 8

4 ○ 7

6 ○ 3

1 ○ 2



5 ○ 7

7 ○ 9

4 ○ 8

9 ○ 2


4

Продолжи штриховку.



Занятие 27

1



Обведи цифру "10" по контуру.
Заштрихуй цифру.




2

Найди цифру "10" и обведи её в кружок.


10 8 7 10 4 2
9 10 6 5 10 0

3

Сосчитай предметы и отметь
точками в квадрате.



4 Нарисуй на варежке 10 звёздочек и раскрась.



5 Засели домик цифрами.



6 Напиши цифру 10.

1	0	1	0						
---	---	---	---	--	--	--	--	--	--

Занятие 28

1 Реши примеры.

9	+	1	=					10	-	6	=				
8	+	2	=					10	-	5	=				
7	+	3	=					10	-	3	=				


2 Дорисуй картинки.



3 Поставь знаки больше, меньше или равно.

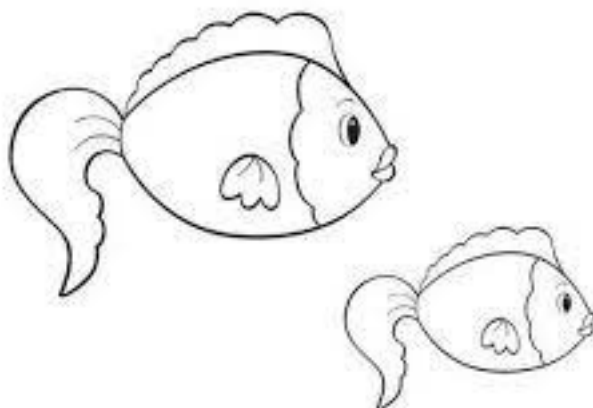
		9	10		
		4	8		
		10	5		
		7	3		
		10	10		
		6	6		

4 Продолжи узор.




Занятие 29


- 1 Раскрась маленькую рыбку жёлтым цветом, а большую синим.



- 2 Посчитай, в каком по счёту квадрате находятся большие предметы, в каком средние и маленькие.



- 3 Обведи маленькие предметы в кружок.
Раскрась картинки.




- 4 Найди 10 отличий.

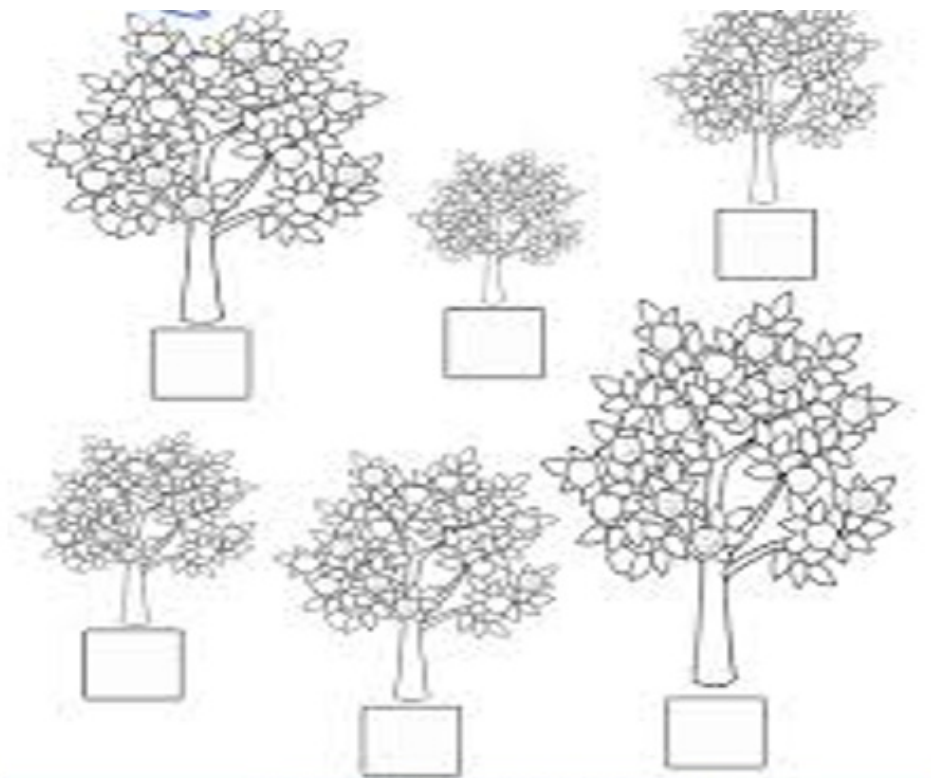


Занятие 30

- 1 Дорисуй на маленьком дереве столько яблок, чтобы их стало одинаковое количество.



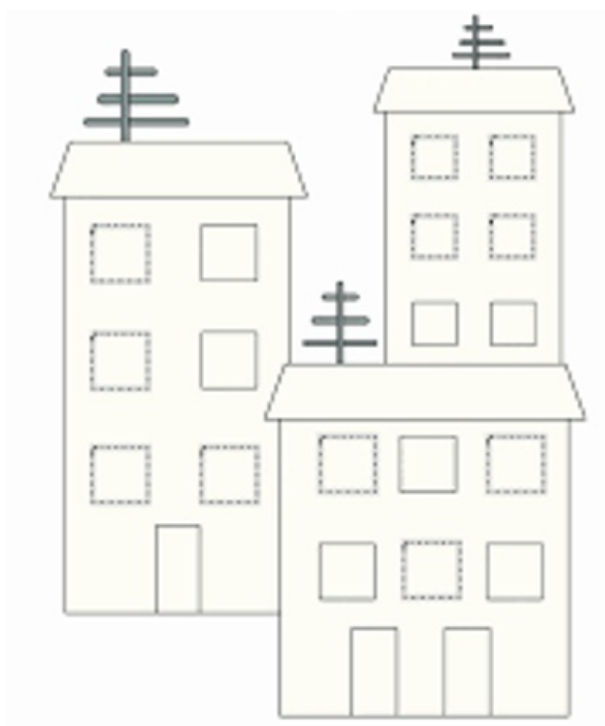
- 2 Расставь цифры по порядку, начиная с самого маленького дерева.



3 Найди 12 отличий.

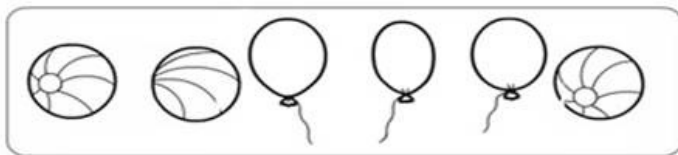


4 Раскрась высокий дом синим цветом, низкий - желтым, а средний – зелёным.



Занятие 31

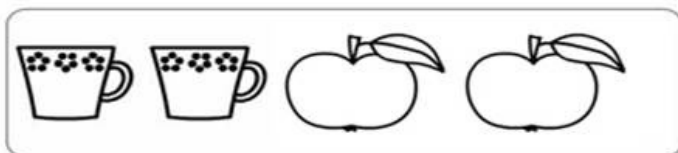
- 1 Реши примеры и соедини с правильным ответом.



$3+2$




$4+3$



$3+3$

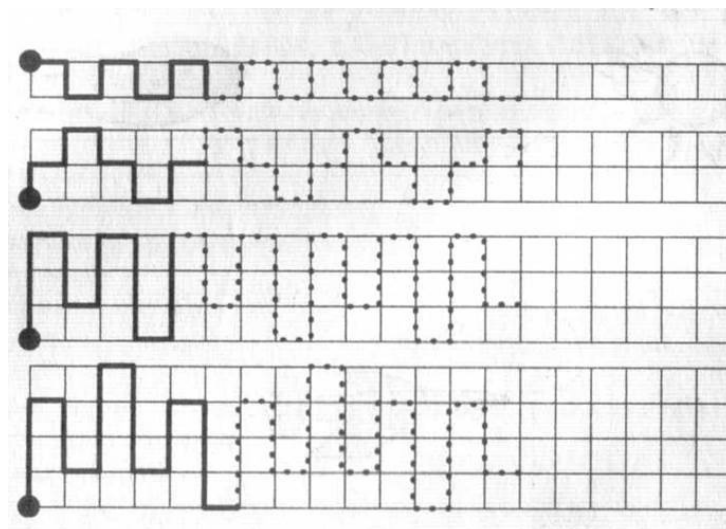


$4+3$




$5+1$

- 2 Продолжи узор.



3

Обведи по контуру и раскрась.



Занятие 32

- 1 Реши примеры. Соедини одинаковые ответы линией.

$9 - 6 =$

$3 + 6 =$

$6 + 2 =$

$8 - 5 =$

$10 - 2 =$

$10 - 1 =$

$5 - 2 =$



$7 + 1 =$

$2 + 7 =$

$8 + 1 =$

$4 - 1 =$

$4 + 4 =$

$4 + 5 =$

2

Реши примеры. Ответы запиши в клеточки.
Придумай к ним задачи.

 +  =  +  =

 +  =

 +  =

 +  =

 +  =

 +  =

3

Найди тени.

