

Н. Н. Титаренко, Д. В. Мельникова

**Метапредметные результаты
и функциональная грамотность:
контрольно-измерительные материалы
4 класс**

(Сборник диагностических и репетиционных работ)

Ф. И. обучающегося _____

Образовательная организация _____

Класс _____

АНО ДПО «Инновационный центр «РОСТ»»

ООО «ЮжУралИнформ»

Челябинск, 2022 г.

УДК 371.01 (075)

ББК 74ю26я721

Т46

Проект осуществлен при поддержке ГБОУ ВПО «Южно-Уральский государственный гуманитарно-педагогический университет» и ГБОУ ДПО «Челябинский институт переподготовки и повышения квалификации работников образования»

Титаренко Н. Н. — кандидат педагогических наук, доцент кафедры математики и естествознания факультета подготовки учителей начальных классов ЮУрГГПУ

Мельникова Д. В. — учитель начальных классов высшей квалификационной категории муниципального бюджетного образовательного учреждения «Средняя общеобразовательная школа № 61 г. Челябинска»

Рецензенты:

Гнатышина Е. В. – д.п.н., заведующая кафедрой педагогики и психологии, доцент ГБОУ ВПО «Южно-Уральский государственный гуманитарно-педагогический университет»;

Скрипова Н. Е. – д.п.н., заведующая кафедрой начального образования, доцент ГБОУ ДПО «Челябинский институт переподготовки и повышения квалификации работников образования».

Готовимся к мониторингу учебных достижений в новой форме. **Метапредметные результаты и функциональная грамотность: контрольно-измерительные материалы. 4 класс.** Первый выпуск. / Н. Н. Титаренко, Д. В. Мельникова — Челябинск: АНО ДПО «Инновационный центр “РОСТ”», 2022. — 76 с., в том числе вкладыш – 32 с.

В сборнике представлены три диагностические и четыре репетиционные работы для мониторинга метапредметных учебных достижений и функциональной грамотности у обучающихся четвертых классов начальной школы. Каждая работа состоит из несплошного текста, учебно-познавательных и учебно-практических заданий, содержательно связанных с текстом. Ребятам предложены задания, в основе которых лежат различные ситуации из реальной жизни.

Работа с такими заданиями поможет ребенку определить, насколько грамотно он умеет понимать инструкции, анализировать разные ситуации, осознавать, что знания могут пригодиться не только при выполнении учебных заданий, но и при решении жизненных задач. Задания можно использовать для тренинга в домашних условиях, проверки знаний и умений на этапе перехода обучающихся в основную школу, а также для проверки успешности достижения по ФГОС метапредметных планируемых результатов образования и функциональной грамотности.

К сборнику разработаны методические рекомендации для учителей начальных классов, они могут быть приобретены с учебным пособием или отдельно.

УДК 371.01 (075)

ББК 74ю26я721

Т 46

ISBN 978-5-8093-0069-8

© авторы, составление, 2022
© оформление Галкина И. Г., 2022
© АНО ДПО «ИЦ “РОСТ”», 2022
© ООО «ЮжУралИнформ», 2022

СОДЕРЖАНИЕ

№ п/п	Наименование раздела	№ Стр.
1.	Структура сборника	4
2.	Советы выпускникам и лист самооценки	5
3.	Обращение к родителям выпускников начального общего образования	7
	<i>Репетиционные работы сборника</i>	
4.	№ 1 Памятник великому баснописцу	8
5.	№ 2 Челябинский театр кукол	17
6.	№ 3 Озеро Кисегач	27
7.	№ 4 Зима на Южном Урале	36
	<i>ВКЛАДЫШ СБОРНИКА</i>	
8.	Диагностическая работа № 1. «Парк имени Ю. А. Гагарина»	1-8
9.	Диагностическая работа № 2. «О путешествии по родному краю»	1-8
10.	Диагностическая работа № 3. «В зоопарке Челябинска»	1-8
11.	Тексты репетиционных и диагностических работ	1-8

Структура сборника

В сборнике представлены контрольно-измерительные материалы для мониторинга метапредметных учебных достижений и функциональной грамотности у обучающихся четвертых классов начальной школы: три диагностические и четыре репетиционные работы. Каждая работа состоит из несплошного текста, учебно-познавательных и учебно-практических заданий, содержательно связанных с текстом.

Чтобы организовать внутришкольный мониторинг метапредметных учебных достижений и функциональной грамотности у обучающихся четвертых классов, учителю необходимо от каждого сборника, отделить материалы трех диагностических работ, расположенных во вкладыше. На первой странице каждой работы подписать фамилию и имя школьника. Мы рекомендуем выдавать диагностические работы для выполнения школьниками в сроки, обозначенные внутришкольным мониторингом метапредметных учебных достижений и функциональной грамотности у обучающихся четвертых классов. Для удобства выполнения заданий диагностических и репетиционных работ мы разместили в приложении сборника, в его середине, тексты для школьников, которые необходимо отделить и подготовить к выполнению заданий. Текст является основным источником информации и должен быть не только напечатан в сборнике, но и лежать на учебном столе перед школьником. При проверке диагностических работ мы рекомендуем учителю выставить баллы в таблицу, чтобы ознакомить школьников с результатами мониторинга. Затем учитель отмечает те задания (✓), выполнение которых вызвали затруднения у обучающегося, т. е. он не оформил ответа на задание или получил ноль в результате неверного выполнения.

Чтобы организовать ознакомление школьников со структурой контрольно-измерительных материалов, следует использовать, в сроки по усмотрению учителя, четыре репетиционные работы. От приложения сборника, как уже было изложено выше, следует отделить соответствующий текст, который должен лежать на учебном столе перед обучающимся.

После выполнения каждой репетиционной работы мы рекомендуем учителю приступить к этапу самопроверки школьником: учитель зачитывает верные ответы, школьники сверяются, выставляют нужные баллы и переносят их в таблицу самооценки. Выполняя проверочные работы и заполняя собственный лист самооценки, каждый школьник сможет определить, какие задания он регулярно выполняет успешно, а какие вызывают у него затруднения. Именно на них следует обратить особое внимание, определить особенности структуры и содержания. Такая «работа над ошибками» позволит школьникам быть успешными при выполнении заданий РИКО.

К сборнику разработаны методические рекомендации для учителей начальных классов, в которых мы описали критерии оценивания всех заданий. В таблицах разместили верные ответы для трех диагностических и четырех репетиционных работ.

Советы выпускникам и лист самооценки

Дорогие ребята!

В этом году вы оканчиваете начальную школу, вы выпускники. Проверочные работы этого пособия включают интересные тексты и задания разных конструкций к ним. Три диагностические работы вы будете выполнять под контролем учителя, а репетиционные – самостоятельно.

Перед выполнением любой работы из приложения пособия следует отделить соответствующий текст, который должен лежать на учебном столе перед каждым из вас. Это источник информации, именно к нему предложены задания.

После выполнения каждой работы под руководством учителя приступайте к этапу самопроверки: учитель будет зачитывать верные ответы. Сверяйте их со своими ответами, выставляйте нужные баллы и переносите их в таблицу листа самооценки. Выполняя проверочные работы и заполняя собственный лист самооценки, каждый из вас сможет определить, какие задания вы выполняете успешно, какие вызывают затруднения. Именно на них следует обратить особое внимание, чтобы понять особенности структуры и содержания. Такая «работа над ошибками» позволит вам быть успешными при выполнении заданий РИКО.

Сокращения в листе самооценки:

ДР – диагностическая работа

РР – репетиционная работа

Прочитайте, что в листе самооценки отмечены номера заданий, указаны баллы за каждое задание: 1 балл за задания базового уровня, 2 балла – за задания повышенной трудности. Всего баллов за работу – 34. Стремитесь получить максимальное количество баллов, это и есть проявленное вами умение учиться и преодолевать трудности!

Желаем успехов!

Авторы

Номер задания	Баллы	№ 1 ДР	№ 2 РР	№ 3 РР	№ 4 ДР	№ 5 РР	№ 6 РР	№ 7 ДР	Итого
1	1 балл								
1.1	1 балл								
2	1 балл								
2.1	2 балла								
3	1 балл								
3.1	1 балл								
4	1 балл								
4.1	1 балл								
5	2 балла								
5.1	1 балл								
6	2 балла								
6.1	1 балл								
7	1 балл								
7.1	2 балла								
8	2 балла								
8.1	2 балла								
9	2 балла								
9.1	2 балла								
10	1 балл								
10.1	2 балла								
11	1 балл								
11.1	1 балл								
12	1 балл								
12.1	2 балла								
ВСЕГО	34 балла								

Уважаемые папы и мамы!

В этом году ваши дети оканчивают начальную школу, и Вы немного переживаете, как они напишут итоговые проверочные работы по предметам за курс начальной школы, насколько легко адаптируются в дальнейшем.

Наш сборник поможет Вам поддержать ребенка в подготовке к итоговым проверочным работам, поскольку они приобретут опыт работы в новых условиях. Разработанные нами три диагностические и четыре репетиционные работы позволяют школьнику приобрести опыт выполнения заданий для проверки уровня сформированности его метапредметных учебных достижений и функциональной грамотности. Метапредметные учебные достижения проявляются в умении учиться самостоятельно, функциональная грамотность – в умении выполнять задания с реальными жизненными ситуациями. Все проверочные работы в тетради состоят из интересного текста и заданий, содержательно связанных с текстом. Работа с заданиями поможет ребенку осознать, что знания могут пригодиться не только при выполнении учебных заданий, но и при решении жизненных проблем.

При выполнении заданий сам ребенок сможет определить, насколько грамотно он умеет понимать инструкции, анализировать разную информацию, быть самостоятельным при планировании, проверке и оценивании процесса учения и полученных результатов. Ваши дети – это люди, которые будут жить и работать в середине XXI века, века информации. Значит, они должны быть мобильными и гибкими, умеющими и желающими учиться. А какой человек умеет учиться? Сегодня каждый понимает, что это не тот, кто ночи напролёт бестолково зубрит заданные уроки, а тот, кто не пасует перед решением новой задачи (не только учебной, но и жизненной) и ставит перед собой вопросы: «Могу ли я это сделать? Что я должен узнать, чтобы решить эту задачу? И как я могу это сделать?»

Если вы хотите помочь ребенку подготовиться к выполнению работ, не берите на себя все функции проверки, не спешите, проследите, как ребенок учится оценивать свои действия. Искренне надеемся, что наше пособие поможет вашим детям подготовиться к итоговым проверочным работам и успешному переходу в основную школу.

Желаем успехов!

Авторы

Текст к репетиционной работе № 1

Памятник великому баснописцу

Великим писателям и поэтам нашей страны воздвигнуто множество памятников. Памятник – это скульптурное или архитектурное сооружение в память о ком-то или о чём-либо. Обычно памятники имеют объёмную, трехмерную форму, поэтому ими можно любоваться с большого расстояния. Выполняются памятники из долговечных материалов: гранита, бронзы, меди, стали. К памятникам относятся монументы, статуи, стелы, обелиски.

В городе Троицке Челябинской области появился памятник Ивану Андреевичу Крылову. Этот памятник установлен на центральной улице Климова в 2019 году и выполнен из каслинского литья. Баснописец сидит на скамье. Ворона с сыром в клюве сидит на спинке скамьи, а на земле перед ней устроилась лисица с прижатыми к груди лапками. Все персонажи скульптуры по размеру чуть больше натуры.

Иван Андреевич Крылов – известный русский баснописец, поэт. Родился Иван 13 февраля 1769 года в Троицке. В то время его отец, армейский офицер, служил на Урале. Образование Иван получал в основном дома. Он очень любил читать, на лету схватывал иностранные языки, интересовался наукой. Когда Крылову было 15 лет, он сочинил свою первую литературную работу.

Всеобщая любовь приходит к автору в 1809 году, и тогда же наблюдается его творческий взлет, который совпал с изданием первого сборника басен, включившего знаменитую «Слон и Моська». Писатель мастерски умел высмеять в своих баснях человеческие пороки и суровую жизнь того времени.

Всего до конца жизни Крылов написал более 200 басен, которые были объединены в девять книг. На основе басен Крылова сняты мультфильмы. Именем писателя названы улицы во многих городах России. Ивану Крылову установлены памятники в Москве, Санкт-Петербурге и других городах. За прошедшие с тех пор почти два столетия не было ни одного поколения в России, которое не воспитывалось бы на баснях Крылова.

Текст «Памятник великому баснописцу» вторично напечатан во вкладыше, его необходимо открепить из центра сборника и для комфортного и успешного выполнения заданий репетиционной работы положить рядом с задачными формулировками.

Задания к репетиционной работе № 1

Задание 1. Этот текст состоит из пяти частей.

Поставь порядковые номера у заголовков плана текста:

- Первый сборник басен
- Известный русский баснописец – И. А. Крылов
- Памятник известному баснописцу
- Память жива
- Памятники великим писателям и поэтам

1 балл

Задание 1.1. В какой части текста «Памятник великому баснописцу» можно узнать о количестве написанных Крыловым басен?

Отметь верное.

- Первый сборник басен
- Известный русский баснописец – И.А.Крылов
- Памятник известному баснописцу
- Память жива
- Памятники великим писателям и поэтам

1 балл

Задание 2. Рассмотрите, как выглядит памятник И.А. Крылову в Троицке. В какой части текста сообщается о его создании?



Запиши номер части текста: _____

1 балл

2 балла

Задание 2.1. Что можно узнать о памятнике Крылову из текста и по фотографии? Отметь верные ответы.

- На какой улице Троицка установлен памятник.
- О длине скамьи, на которой сидит ворона.
- О позе, в которой сидит лисица.
- О всех персонажах из басен Крылова.

1 балл

Задание 3. Марк прочитал текст и соединил стрелками год и события. Проверь его записи и отметь знаком ошибку мальчика.

<input type="checkbox"/> 1809 год	В городе Троицке родился Иван Крылов
<input type="checkbox"/> 13 февраля 1769 год	Воздвигнут памятник в Троицке
<input type="checkbox"/> 1799 год	Напечатана басня «Слон и Моська»
<input type="checkbox"/> 2019 год	Был напечатан первый сборник басен

1 балл

Задание 3.1. Подсчитай, в каком году Крылов сочинил свою первую литературную работу. Допиши ответ:

В _____ году.

1 балл

Задание 4. Интересно, а почему в нашей стране так гордятся писателями и поэтами, воздвигают им множество памятников? Отметь ответ знаком «+».

- Памятники писателям и поэтам украшают территорию города.
- В парках и скверах нужны красивые памятники писателям и поэтам.
- Великие писатели и поэты – это культурное достояние России.
- Памятники писателям и поэтам устанавливаются в городах.

<p>Задание 4.1. Как ты думаешь, можно ли переименовать город Троицк в город Крылово. Отметь верный ответ.</p> <p><input type="checkbox"/> Нет, так как городам не дают новых названий.</p> <p><input type="checkbox"/> Нет, так как Иван Крылов не единственный почётный житель Троицка.</p> <p><input type="checkbox"/> Да, так как Иван Крылов знаменитый житель Троицка.</p> <p><input type="checkbox"/> Да, так как басни Крылова знают за пределами Троицка.</p>	1 балл
<p>Задание 5. Почему басня «Слон и Моська» принесла Ивану Крылову всеобщую любовь? О каких ценностях узнают читатели? Выбери подходящие пословицы об этом, отметь их знаком «+».</p> <p><input type="checkbox"/> Как аукнется, так и откликнется.</p> <p><input type="checkbox"/> Всяк сверчок знай свой шесток.</p> <p><input type="checkbox"/> Мал золотник, да дорог.</p> <p><input type="checkbox"/> Без труда не вытащишь и рыбку из пруда.</p> <p><input type="checkbox"/> Собака лает, караван идёт.</p>	2 балла
<p>Задание 5.1. О каких животных, героях басен Крылова, это научное описание: «Эти животные по праву носят звание самых крупных млекопитающих на планете. У них массивное удлинённое тело, толстые прямые ноги и тонкий хвост с опушённым кончиком».</p> <p>Отметь верное знаком «+».</p> <p><input type="checkbox"/> осёл <input type="checkbox"/> слон <input type="checkbox"/> медведь <input type="checkbox"/> обезьяна</p>	1 балл
<p>Задание 6. Полина прочитала содержание текста «Памятник великому баснописцу» и написала: «В честь великого баснописца Ивана Крылова названы улицы во многих городах России. На основе басен Крылова сняты фильмы, спектакли, мультфильмы. Ивану Крылову установлены памятники».</p> <p>В предложении Полины подчеркни, что на самом деле названо именем Ивана Андреевича Крылова.</p>	2 балла

Задание 6.1. На каком рейсе автобуса пассажиру выгоднее и быстрее доехать из Челябинска в Троицк, чтобы посмотреть его достопримечательности?

1 балл

№	Время отправления	Время в пути	Цена билета
1	07:35	2 ч 23 мин	225 руб.
2	07:50	1 ч 40 мин	275 руб.
3	08:15	1 ч 40 мин	225 руб.
4	09:10	2 ч 13 мин	275 руб.

Ответ: № _____.

Задание 7. Выбери подходящее название из предложенных вариантов, отражающее основную мысль текста. Отметь знаком «+».

1 балл

- Первый памятник знаменитому баснописцу
- Басни Ивана Андреевича Крылова
- Биография Ивана Андреевича Крылова
- Память о баснописце Иване Крылове

Задание 7.1. Не всегда есть возможность путешествовать по родному краю. Отметь две самые эффективные идеи, чем можно заменить путешествие, чтобы не только узнать, но и увидеть памятник знаменитому баснописцу.

2 балла

- Рассмотреть место памятника на карте города Троицка.
- Рассмотреть открытки с видами памятника И. А. Крылову.
- Прочитать описание и вид памятника И. А. Крылову в тексте.
- Расспросить местных жителей о памятнике И. А. Крылову.

Задание 8. Что можно узнать из текста о памятнике Крылову в городе Троицке? Из перечисленного выбери только необходимое и добавь в предложение:

2 балла

из каких материалов скульпторы создают памятники, где и когда родился Крылов, где и когда был сооружён памятник Крылову, описание памятника Крылову, где учился и работал Крылов,

в памятнике передано настроение Крылова, как называлась первая книга Крылова, из какого материала сделан памятник Крылову, в каком городе сооружён первый памятник Крылову, высота памятника Крылову, с какого расстояния лучше любоваться памятниками

Из текста о памятнике Крылову в Челябинской области можно узнать следующее:

Продолжение Задания 8.

Задание 8.1. Что из перечисленного можно отметить как природные достопримечательности? Подчеркни.

число жителей в 1784 году, расположение города, особенности климата, погода в осенний период, сосновый бор «Золотая сопка», день рождения города, год образования поселения, ботанический парк «Степные зори», исторические улицы и памятники, школы, стоимость проезда автобусом, водонапорная башня

2 балла

Задание 9. В тексте много числовых данных. Изучая их, мы больше узнаём об Иване Крылове. Соедини год с событиями из биографии Ивана Андреевича Крылова с помощью стрелок, чтобы получилась верная информация. Обрати внимание, что в таблице указано больше событий из жизни писателя, чем дат.

Год	События из биографии И.А. Крылова
1769	год рождения И. А. Крылова
1784	напечатан сборник басен
1809	сооружён памятник в Троицке
2019	напечатана первая басня Крылова «Слон и Моська»
	сочинил первую литературную работу
	открытие музея в родном городе писателя

2 балла

2 балла

Задание 9.1. Старшеклассница Ирина с родителями и четырехлетним братом решила приехать на автобусе из Челябинска в Троицк к бабушке. Какова стоимость билетов до Троицка для всей семьи, если известно, что взрослый билет стоит 370 рублей, а детский билет (до 7 лет) – 260 рубля.

Ответ: _____ руб.

Сколько будет стоить поездка обратно, если семья вернется из Троицка в Челябинск с бабушкой.

Ответ: _____ руб.

1 балл

Задание 10. Пользуясь календарем 1769 года, определи, в какой день недели родился Иван Крылов.

ПН	ВТ	СР	ЧТ	ПТ	СБ	ВС
		1	2	3	4	5
6	7	8	9	10	11	12
13	14	15	16	17	18	19
20	21	22	23	24	5	26
27	28	29	30	31		

Запиши ответ словом: _____

2 балла

Задание 10.1. Известно, что по пятницам и выходным дням люди путешествуют чаще и не всегда можно купить билеты для проезда. Запиши, в какие даты третьей недели июня путешествовать лучше?

Июнь

ПН	ВТ	СР	ЧТ	ПТ	СБ	ВС
	1	2	3	4	5	6
7	8	9	10	11	12	13
14	15	16	17	18	19	20
21	22	23	24	25	26	27
28	29	30				

Ответ: _____ июня.

<p>Задание 11. Рассмотрите еще раз, как выглядит памятник И. Крылову. Как называют его скульпторы? Прочитайте описание четырех видов памятников, чтобы ответить на этот вопрос.</p> <p>Монумент – памятник значительных размеров в честь крупного исторического события, выдающегося общественного деятеля.</p> <p>Статуя – произведение искусства, созданное для увековечивания людей или исторических событий. Однофигурные и многофигурные композиции, бюсты, конные памятники.</p> <p>Стела – вертикально стоящая каменная плита с надписью, рельефным или живописным изображением.</p> <p>Обелиск – четырехгранный, кверху суживающийся столб, увенчанный заострением в виде пирамиды.</p> <p>Запиши ответ словом: _____</p>	1 балл
<p>Задание 11.1. Что в Троицке, одном из уютных городов Челябинской области, нуждается в разумном использовании? Отметь.</p> <p><input type="checkbox"/> памятник И. Крылову</p> <p><input type="checkbox"/> чистые и прозрачные реки</p> <p><input type="checkbox"/> школы и детские сады</p> <p><input type="checkbox"/> знаменитые жители</p>	1 балл
<p>Задание 12. В конце лета одноклассники с учителем побывали в Троицке. В своих сочинениях они описали, как выглядит памятник. Кто из ребят смог точно описать памятник? Запиши имя школьника.</p> <p>Егор: «Баснописец сидит в задумчивости. На его коленях закрытая книга. Крылов сочиняет новую басню».</p> <p>Миша: «Баснописец сидит на скамье. Ворона с сыром сидит на спинке скамьи, а перед ней лисица с прижатыми к груди лапками».</p> <p>Арина: «Баснописец стоит, задумчиво склонив голову. Перед ним ворона и лисица. В клюве у вороны сыр».</p> <p>Ответ: _____</p>	1 балл

2 балла

Задание 12.1. Сравни информацию о скорости полёта птиц. Запиши названия трёх птиц, которые летают быстрее вороны, в порядке увеличения скорости их полёта.

Утки: 72 км/час

Ястребы: 41,4 км/час

Галки: 60 км/час

Скворцы: 81 км/час

Соколы: 79 км/час

Кулики: 85 км/час

Вороны: 59 км/час

Гуси: 69 км/час

Ласточки: 80 км/час

Чайки: 49,7 км/час

Ответ: _____ .

Самооценка обучающегося по результатам
выполнения заданий репетиционной работы

№ задания	1.	1.1	2.	2.1	3.	3.1	4.	4.1	5.	5.1	6.	6.1	7.	7.1	8.	8.1	9.	9.1	10.	10.1	11.	11.1	12.	12.1
Баллы	1	1	1	2	1	1	1	1	2	1	2	1	1	2	2	2	2	2	1	2	1	1	1	2
Результат выполнения																								
Отметь то задание галочкой (✓), которое при выполнении вызвало у тебя затруднение																								

Мною достигнут успех в выполнении заданий репетиционной работы, так как общее количество баллов за их выполненные составило.....

Я достигну лучших результатов в выполнении репетиционной работы, если научусь выполнять задания, которые для меня были трудными...

№№ _____

Текст к репетиционной работе № 2

Челябинский театр кукол

Каждый год, начиная с 2008, в нашей стране объявляется годом «чего-либо», чтобы к этому событию привлечь внимание взрослых и детей. Так, 2008 год отмечали как Год семьи. 2011 – российской космонавтики, 2015 – литературы, 2016 – российского кино, 2017 – экологии. А 2019 год был объявлен Годом театра. Организаторы выпустили специальный знак Года театра.

Всего 300 лет назад в России не строили театральные здания и не создавали постоянные труппы артистов. А сегодня в стране более 600 взрослых и детских театров – исторических, музыкальных, драматических. На театральных площадках ставят собственные спектакли и принимают артистов из ведущих театров мира, проводят международные театральные фестивали.

К театральному искусству, кроме спектаклей, относятся художественная самодеятельность, костюмированные шествия, карнавалы, кукольные представления, интерактивные постановки. Значит, и тебе хоть однажды приходилось быть артистом!

Программа Года театра насчитывала около полутора тысяч мероприятий по всей стране. Все театры Челябинской области выполнили запланированную программу.

Один из старейших театров в России и на Урале – Челябинский государственный театр кукол. Он был создан в начале 1930-х годов Павлом и Ниной Горяновыми. Первой куклой в театре стал озорной Петрушка. Своего здания у театра не было. Днем рождения Челябинского кукольного театра считается 2 октября 1935 года. В этот год открылся первый театральный сезон. Зрители увидели спектакль «Каштанка» по повести Антона Чехова.

Только в 1972 году театр переехал в здание, расположенное на улице Кирова, 8, где находится по сей день.

Текст «Челябинский театр кукол» вторично напечатан во вкладыше, его необходимо открепить из центра сборника и для комфортного и успешного выполнения заданий репетиционной работы положить рядом с задачными формулировками.

Задания к репетиционной работе № 2

1 балл	<p>Задание 1. Этот текст состоит из пяти частей. Поставь порядковые номера у первых четырех заголовков плана текста:</p> <ul style="list-style-type: none"><input type="checkbox"/> Программа Года театра<input type="checkbox"/> История театра в Челябинской области<input type="checkbox"/> Театры в России<input type="checkbox"/> В России объявляется год «чего-либо»<input type="checkbox"/> Театральное искусство
1 балл	<p>Задание 1.1. В какой части текста можно узнать об одном из старейших театров в России и на Урале? Отметь верное.</p> <ul style="list-style-type: none"><input type="checkbox"/> Программа Года театра<input type="checkbox"/> История театра в Челябинской области<input type="checkbox"/> Театры в России<input type="checkbox"/> В России объявляется год «чего-либо»<input type="checkbox"/> Театральное искусство
1 балл	<p>Задание 2. Рассмотрите, так выглядел специальный знак Года театра. В какой части текста сообщается о его создании?</p>  <p>Запиши номер части текста: _____.</p>

<p>Задание 2.1. Что узнали ребята о годе театра из текста и по фотографии? Отметь верные ответы.</p> <p><input type="checkbox"/> Ребята узнали количество мест в зрительном зале.</p> <p><input type="checkbox"/> На специальном знаке можно увидеть зрительный зал и театральный занавес.</p> <p><input type="checkbox"/> В каком году в России был Год театра.</p> <p><input type="checkbox"/> Стоимость билетов в Челябинский театр кукол .</p>	2 балла								
<p>Задание 3. Никита прочитал текст и соединил стрелками год и события. Проверь его записи и отметь знаком <input checked="" type="checkbox"/> ошибку мальчика.</p> <table border="1" style="width: 100%; border-collapse: collapse;"> <tr> <td style="width: 50%; padding: 5px;"><input type="checkbox"/> 2 октября 1935 года</td> <td style="width: 50%; padding: 5px;">Создание драматического театра в Челябинске</td> </tr> <tr> <td style="padding: 5px;"><input type="checkbox"/> 2017 год</td> <td style="padding: 5px;">Театр переехал на Кирова, 8</td> </tr> <tr> <td style="padding: 5px;"><input type="checkbox"/> 1930-е годы</td> <td style="padding: 5px;">День Рождения театра кукол в Челябинске</td> </tr> <tr> <td style="padding: 5px;"><input type="checkbox"/> 1972 год</td> <td style="padding: 5px;">Год экологии</td> </tr> </table>	<input type="checkbox"/> 2 октября 1935 года	Создание драматического театра в Челябинске	<input type="checkbox"/> 2017 год	Театр переехал на Кирова, 8	<input type="checkbox"/> 1930-е годы	День Рождения театра кукол в Челябинске	<input type="checkbox"/> 1972 год	Год экологии	1 балл
<input type="checkbox"/> 2 октября 1935 года	Создание драматического театра в Челябинске								
<input type="checkbox"/> 2017 год	Театр переехал на Кирова, 8								
<input type="checkbox"/> 1930-е годы	День Рождения театра кукол в Челябинске								
<input type="checkbox"/> 1972 год	Год экологии								
<p>Задание 3.1. Подсчитай, сколько лет прошло с тех пор, как театр переехал на улицу Кирова, до начала 2022 года.</p> <p>Допиши ответ: _____ лет.</p>	1 балл								
<p>Задание 4. Интересно, а почему в России проходят Международные театральные фестивали? Отметь ответ знаком «+».</p> <p><input type="checkbox"/> Российские артисты не могут выезжать в другие страны.</p> <p><input type="checkbox"/> Россия принимает артистов-гостей из всех стран мира.</p> <p><input type="checkbox"/> Наша страна первая придумала проводить театральные фестивали.</p> <p><input type="checkbox"/> Только на территории РФ разрешено проводить Международные фестивали.</p>	1 балл								

1 балл	<p>Задание 4.1. Никита задумался, можно ли предложить разместить на гербе Челябинска символ старейшего театра на Урале. Отметь верный ответ.</p> <p><input type="checkbox"/> Нет, так как театр кукол был основан только в 1935 году, а город Челябинск намного раньше.</p> <p><input type="checkbox"/> Нет, так как Челябинский театр кукол не единственная достопримечательность города.</p> <p><input type="checkbox"/> Да, так как Челябинский театр кукол – один из старейших театров в России и на Урале.</p> <p><input type="checkbox"/> Да, так как челябинцы гордятся театром кукол.</p>
2 балла	<p>Задание 5. Почему 300 лет назад в России не создавались театры, а сегодня их более 600 в стране и каждый год эта цифра увеличивается? Выбери подходящие ответы, отметь их знаком «+».</p> <p><input type="checkbox"/> Появляется много новых зданий и их отдают под театры.</p> <p><input type="checkbox"/> Театры необходимы людям для духовного развития.</p> <p><input type="checkbox"/> В театрах можно полюбоваться картинами или пообщаться с друзьями.</p> <p><input type="checkbox"/> Театры приносят людям радость, вдохновение, помогают найти ответы на внутренние вопросы.</p>
1 балл	<p>Задание 5.1. Авторы театральных сказок любят делать героями говорящих животных. О каком животном, герое многих сказок, это научное описание: «Это крупный хищный зверь. У него большая голова с маленькими ушами, мощные лапы с острыми когтями, короткий хвост. Шерсть коричневая густая. Длина тела от одного до трех метров».</p> <p>Отметь верное знаком «+».</p> <p><input type="checkbox"/> лось <input type="checkbox"/> волк <input type="checkbox"/> медведь <input type="checkbox"/> верблюд</p>

Задание 6. Кристина прочитала содержание текста «Челябинский театр кукол» и написала:

«Программа Года театра насчитывала около полутора тысяч мероприятий по всей стране. К театральному искусству относятся спектакли, кукольные представления, квесты, интерактивные постановки, экологические тропы, костюмированные шествия, походы, художественная самодеятельность, карнавалы».

В предложении Кристины подчерки, что на самом деле относится к театральному искусству.

2 балла

Задание 6.1. Семья Даши побывала в театре кукол и возвращалась домой. На каком рейсе автобуса им выгоднее и быстрее доехать из Челябинска в Миасс?

№	Время отправления	Время в пути	Цена билета
	13:40	2 ч 14. мин	305 руб.
2	14:00	2 ч 17 мин	313 руб.
3	13:50	1 ч 59 мин	305 руб.
4	14:10	2 ч 8 мин	310 руб.

1 балл

Запиши номер верного ответа: _____ .

Задание 7. Как красиво выглядит знак Года театра!

Его авторы использовали некоторые театральные символы. Что изображено на знаке? Отметь верный ответ знаком «+».

- зрительный зал и веер
- сцена и кулисы
- декорации и сцена
- занавес и зрительный зал

1 балл

2 балла	<p>Задание 7.1. Не всегда есть возможность посетить театр кукол ребятам из других городов Челябинской области. Отметь две идеи, как челябинские школьники могут помочь ребятам из других городов Челябинской области больше узнать о театре.</p> <p><input type="checkbox"/> Отметить, где на карте города построен Челябинский театр кукол.</p> <p><input type="checkbox"/> Познакомиться с ребятами из других городов Челябинской области и организовать для них онлайн-экскурсию.</p> <p><input type="checkbox"/> Прочитать интересную информацию в Википедии о театре.</p> <p><input type="checkbox"/> Создать виртуальную экскурсию по Челябинскому театру кукол.</p>
2 балла	<p>Задание 8. Что можно узнать из текста о театре кукол? Из перечисленного выбери только необходимое и допиши предложение:</p> <p>в каком районе города расположен театр, какой год объявлен годом театра, день рождения театра, о театрах в России, площадь зрительного зала, количество посадочных мест, стоимость билетов, о первом спектакле, о первой кукле в театре, год переезда в новое здание, о кукольных спектаклях, о времени работы театра</p> <p>Из текста о театре кукол можно узнать следующее:</p> <hr/> <hr/> <hr/> <hr/> <hr/> <hr/>
2 балла	<p>Задание 8.1. Что из перечисленного обязательно хочет узнать человек, который собирается купить билет на спектакль? Подчеркни.</p> <p>в каком районе города расположен театр, какой год объявлен годом театра, день рождения театра, о театрах в России, площадь зрительного зала, стоимость билетов, о первом спектакле, о первой</p>

ПРИЛОЖЕНИЕ

**Тексты для выполнения заданий
диагностических и репетиционных работ**

Текст к диагностической работе № 1

Парк имени Ю. А. Гагарина

В Челябинске, областном центре Челябинской области, много красивых парков, где любят отдыхать дети и взрослые. Парк – это сад или роща с дорожками для прогулок, цветниками и площадками для игр. Свежий воздух, природа, уют и чистота привлекают отдыхающих.

Парк культуры и отдыха имени Юрия Алексеевича Гагарина – самый большой парк Челябинска. Он занимает площадь 1200 га. Его организовали 18 мая 1934 года в лесопарковой зоне Центрального района города, тогда он ещё не был назван именем первого советского космонавта. В 2001 году его решили реконструировать, и старый парк преобразился! А в 2007 году ему присвоен статус «Особо охраняемая природная территория».

Парк имеет несколько входов. Центральный вход подчёркнут широкой аллеей, украшенной фонтаном с белыми лебедями, который заработал в 2007 году. Множество гранитных дорожек плавно переходят в лесные тропинки. Удобно расположены летние кафе.

Каждый найдет занятие по душе в парке. Здесь можно неспешно пройтись или прокатиться на велосипеде, покормить белок, покататься на аттракционах и увидеть Челябинск с высоты птичьего полёта. Самых маленьких посетителей ждёт детский городок «Гулливёр», где поселились герои сказок, и детская железная дорога. Любители активного отдыха тоже найдут себе занятие. В парке им. Ю. А. Гагарина работает крытый теннисный корт, пейнтбольная площадка и картодром, который зимой превращают в каток, где работают тёплые раздевалки и выдаются на прокат коньки. В холодное время года действует лыжная база и несколько километров освещенной лыжной трассы.

В парке культуры и отдыха уже восьмой десяток лет проходят городские праздники и спортивные соревнования, концерты, лекции, шахматные и шашечные турниры, фестивали народного творчества.

Текст к диагностической работе № 2

О путешествии по родному краю

Здравствуй, Лиза! Мы с тобой редко видимся, и я решила написать тебе об интересном летнем путешествии. В третий вторник июня я побывала на экскурсии в городе Сатка. Много слышала об этом уголке нашей Родины, но чувства, которые меня переполняли после посещения, неповторимы.

При подъезде к городу экскурсовод обратил наше внимание на то, что город расположен в горной части нашей области и окружен лесами. Зрелище – дух захватывает! Затем мы слушали рассказ о том, что Сатка – небольшой город Челябинской области, расположенный на берегу реки Большая Сатка, в 184 километрах от столицы области. В 1758 году на этом месте появилось небольшое поселение, а статус города Сатка получила только в 1937 году. День рождения этого города отмечают 19 ноября. Сейчас в нем проживает чуть больше 42 000 жителей. А самая большая численность населения была в 2006 году: около 48 000.

Сатка – туристический город. Отсюда на поезде можно доехать до Златоуста, Челябинска, Екатеринбурга, Уфы, Троицка, Нязепетровска. Автобусные рейсы доведут в Челябинск, Екатеринбург, Бакал, Магнитогорск, Красноуфимск, Пермь, Златоуст, Уфу, Чебаркуль.

В Сатке особенный климат: зимы умеренно-холодные и долгие, а летом прохладно и большое количество осадков.

Лиза, ты знаешь, что у каждого города есть свой герб. Очень интересным показался мне герб Сатки. В центре герба изображены три белоснежные горы, которые отражаются в прозрачной воде. Синяя часть герба передает красоту окружающей природы. Нижняя часть герба окрашена золотом – символом богатства полезными ископаемыми.

Лиза, на экскурсии я много узнала об исторических улицах и памятниках города, его главных предприятиях, музеях и школах. Особенно запомнился национальный парк «Зюраткуль». Он расположен в 30 километрах южнее Сатки. Здесь можно увидеть озеро Зюраткуль, две реки, скалы, вязовую рощу и артезианский фонтан. Советую съездить на экскурсию в Сатку. Напиши, где этим летом побывала ты. До свидания! Твоя подруга Лена.

Текст к диагностической работе № 3

В зоопарке Челябинска

Школьники челябинской гимназии № 104 в период осенних каникул посетили челябинский зоопарк, расположенный на площади в 30 гектаров. Здесь, в хороших условиях, обитают более 133 видов животных, 85 из которых внесены в Красную книгу. Зоопарк является уникальным местом, в котором содержатся животные местной фауны и экзотические животные из разных уголков мира. На территории зоопарка находится детский контактный зоопарк, аквариум, террариум, инсектарий (специальное помещение для содержания и разведения насекомых).

В 1992 году в Челябинск были привезены 16 диких животных для создания небольшого зоопарка. В 1994 году была выделена земля под его строительство. Официально зоопарк существует с 13 сентября 1996 года. В 1997 году был построен «Детский контактный зоопарк», который стал первым зоопарком в России, где дети могли познакомиться и пообщаться с домашними животными, погладить их. А с 2004 года в зоопарке работает единственный в городе «Клуб юных биологов». Сотрудники зоопарка обучают ребят и передают свой опыт. Каждый год территория челябинского зоопарка преобразуется, продолжается строительство новых вольеров для животных, улучшаются условия их содержания, ухода и питания.

Наибольшей популярностью у посетителей пользуются африканские львы, амурские тигры, шимпанзе обыкновенный, снежный барс, восточносибирские рыси, африканские леопарды, алтайские маралы, саванные зебры, бурые и белые медведи, лисы и волки.

Для посетителей проводятся экологические мероприятия: экскурсии, лекции-занятия с контактными животными, квест-игры, конкурсы, викторины, экологические акции. Также сотрудники зоопарка организуют культурно-массовые мероприятия, поддерживают народные традиции, проводя календарные праздники: Масленицу, День защиты детей, День России, День Победы, День знаний, Новый год, День Города.

Челябинский зоопарк – это важный объект в городе, музей живой природы, который каждый раз производит неизгладимое впечатление на посетителей, оказывает эмоциональное воздействие, учит людей добру и бережному отношению к миру живой природы.

Текст к репетиционной работе № 1

Памятник великому баснописцу

Великим писателям и поэтам нашей страны воздвигнуто множество памятников. Памятник – это скульптурное или архитектурное сооружение в память о ком-то или о чём-либо. Обычно памятники имеют объёмную, трехмерную форму, поэтому ими можно любоваться с большого расстояния. Выполняются памятники из долговечных материалов: гранита, бронзы, меди, стали. К памятникам относятся монументы, статуи, стелы, обелиски.

В городе Троицке Челябинской области появился памятник Ивану Андреевичу Крылову. Этот памятник установлен на центральной улице Климова в 2019 году и выполнен из каслинского литья. Баснописец сидит на скамье. Ворона с сыром в клюве сидит на спинке скамьи, а на земле перед ней устроилась лисица с прижатыми к груди лапками. Все персонажи скульптуры по размеру чуть больше натуры.

Иван Андреевич Крылов – известный русский баснописец, поэт. Родился Иван 13 февраля 1769 года в Троицке. В то время его отец, армейский офицер, служил на Урале. Образование Иван получал в основном дома. Он очень любил читать, на лету схватывал иностранные языки, интересовался наукой. Когда Крылову было 15 лет, он сочинил свою первую литературную работу.

Всеобщая любовь приходит к автору в 1809 году, и тогда же наблюдается его творческий взлет, который совпал с изданием первого сборника басен, включившего знаменитую «Слон и Моська». Писатель мастерски умел высмеять в своих баснях человеческие пороки и суровую жизнь того времени.

Всего до конца жизни Крылов написал более 200 басен, которые были объединены в девять книг. На основе басен Крылова сняты мультфильмы. Именем писателя названы улицы во многих городах России. Ивану Крылову установлены памятники в Москве, Санкт-Петербурге и других городах. За прошедшие с тех пор почти два столетия не было ни одного поколения в России, которое не воспитывалось бы на баснях Крылова.

Текст к репетиционной работе № 2

Челябинский театр кукол

Каждый год, начиная с 2008, в нашей стране объявляется годом «чего-либо», чтобы к этому событию привлечь внимание взрослых и детей. Так, 2008 год отмечали как Год семьи. 2011 – российской космонавтики, 2015 – литературы, 2016 – российского кино, 2017 – экологии. А 2019 год был объявлен Годом театра. Организаторы выпустили специальный знак Года театра.

Всего 300 лет назад в России не строили театральные здания и не создавали постоянные труппы артистов. А сегодня в стране более 600 взрослых и детских театров – исторических, музыкальных, драматических. На театральных площадках ставят собственные спектакли и принимают артистов из ведущих театров мира, проводят международные театральные фестивали.

К театральному искусству, кроме спектаклей, относятся художественная самодеятельность, костюмированные шествия, карнавалы, кукольные представления, интерактивные постановки. Значит, и тебе хоть однажды приходилось быть артистом!

Программа Года театра насчитывала около полутора тысяч мероприятий по всей стране. Все театры Челябинской области выполнили запланированную программу.

Один из старейших театров в России и на Урале – Челябинский государственный театр кукол. Он был создан в начале 1930-х годов Павлом и Ниной Горяновыми. Первой куклой в театре стал озорной Петрушка. Своего здания у театра не было. Днем рождения Челябинского кукольного театра считается 2 октября 1935 года. В этот год открылся первый театральный сезон. Зрители увидели спектакль «Каштанка» по повести Антона Чехова.

Только в 1972 году театр переехал в здание, расположенное на улице Кирова, 8, где находится по сей день.

Текст к репетиционной работе № 3

Озеро Кисегач

Озеро Кисегач – одно из крупных озер Челябинской области. Расположено среди невысоких, покрытых красивейшими лесами гор Южного Урала в Чебаркульском районе. Природа озера так живописна и уникальна, что с 1969 года эта территория считается памятником природы.

В переводе с башкирского Кисегач – озеро с крутыми берегами. Если взглянуть на них, то можно увидеть, что некоторые берега озера резко обрываются у воды. Кстати, так озеро называлось не всегда. На карте 1742 года указано его первое название – Кисегау.

Озеро Кисегач глубокое: средняя глубина около 12 метров, а самые глубокие места до 34 метров. Как красивы озерные берега, они каменистые, покрыты лесом, изрезаны многочисленными заливами! На озере есть одиннадцать островов. Самые крупные острова расположены в северной части озера. Западный берег озера граничит со знаменитым на весь мир Ильменским заповедником.

В озере обитают окунь, чебак, щука, линь, сиг, ёрш, лещ, язь, корюшка. Водятся и раки. На островах гнездятся водоплавающие птицы, в том числе дикие утки и чайки.

Вода озера достаточно чистая, однако дно просматривается на глубину четырех метров. Озерная вода используется как источник питьевой воды для ближайших санаториев.

Климат на этой территории благоприятный. Летом много солнечных дней. Купальный сезон на озере длится с 15 июля по 15 августа, температура воды достигает 22 градусов.

В 1926 году на берегу озера Кисегач был открыт первый дом отдыха. В военные годы (1941–1945) в доме отдыха работал госпиталь, где лечили раненых бойцов. «Кисегач» работает и сегодня, это одна из лучших и ведущих здравниц Урала.

Чем же привлекает туристов озеро Кисегач? Оно является курортным местом и вполне оправдывает свой статус. Ежегодно в домах отдыха и здравницах бывают тысячи гостей. Туристы и отдыхающие считают озеро Кисегач редкостным даром природы за чистый целебный воздух и прекрасный ландшафт.

Текст к репетиционной работе № 4

Зима на Южном Урале

Всё в природе находится в постоянном движении и изменении. Эти изменения называются природными явлениями. Давайте вместе с вами вернёмся в зиму и узнаем о главных особенностях этого периода года в нашей местности.

Зима на Южном Урале начинается тогда, когда перестает таять выпадающий снег. Она может длиться около пяти месяцев – с ноября по март. Зимние дни короткие, ведь солнце находится низко над горизонтом. А 21 декабря – самая длинная ночь в году (день зимнего солнцестояния), её продолжительность – 16 часов 52 минуты!

В начале декабря бывают морозы до -20 градусов. С приходом января морозы случаются до -28 градусов, дуют сильные ветры, часты снегопады. С наступлением февраля на ярком небосводе появляется солнышко, принося людям радостное настроение. Хотя холодно, до -18 градусов. Ветры по-прежнему дуют сильные, а вот снега выпадает намного меньше.

Растения зимой находятся в состоянии зимнего покоя. Некоторые травы, например, одуванчик и пастушья сумка, находятся под снегом зелёными всю зиму.

Самым голодным месяцем для птиц и зверей является февраль. От зимней стужи их спасают пушистое оперение и теплая шерсть. А вот еду добывать становится труднее. Только сытые птицы и звери не замерзают в холодную погоду.

Зимние морозы в нашей местности могут показать себя и в марте. Зима запугивает метелями и вьюгами. Но уже начинается таяние снега, все ждут весну.

Текст к диагностической работе № 1

Парк имени Ю. А. Гагарина

В Челябинске, областном центре Челябинской области, много красивых парков, где любят отдыхать дети и взрослые. Парк – это сад или роща с дорожками для прогулок, цветниками и площадками для игр. Свежий воздух, природа, уют и чистота привлекают отдыхающих.

Парк культуры и отдыха имени Юрия Алексеевича Гагарина – самый большой парк Челябинска. Он занимает площадь 1200 га. Его организовали 18 мая 1934 года в лесопарковой зоне Центрального района города, тогда он ещё не был назван именем первого советского космонавта. В 2001 году его решили реконструировать, и старый парк преобразился! А в 2007 году ему присвоен статус «Особо охраняемая природная территория».


Парк имеет несколько входов. Центральный вход подчёркнут широкой аллеей, украшенной фонтаном с белыми лебедями, который заработал в 2007 году. Множество гранитных дорожек плавно переходят в лесные тропинки. Удобно расположены летние кафе.

Каждый найдет занятие по душе в парке. Здесь можно неспешно пройтись или прокатиться на велосипеде, покормить белок, покататься на аттракционах и увидеть Челябинск с высоты птичьего полёта. Самых маленьких посетителей ждет детский городок «Гулливёр», где поселились герои сказок, и детская железная дорога. Любители активного отдыха тоже найдут себе занятие. В парке им. Ю. А. Гагарина работает крытый теннисный корт, пейнтбольная площадка и картодром, который зимой превращают в каток, где работают тёплые раздевалки и выдаются на прокат коньки. В холодное время года действует лыжная база и несколько километров освещенной лыжной трассы.

В парке культуры и отдыха уже восьмой десяток лет проходят городские праздники и спортивные соревнования, концерты, лекции, шахматные и шашечные турниры, фестивали народного творчества.

Текст «Парк имени Ю. А. Гагарина» вторично напечатан во вкладыше, его необходимо открепить из центра сборника и для комфортного и успешного выполнения заданий диагностической работы положить рядом с задачами формулировками.

Задания к диагностической работе №1

1 балл	<p>Задание 1. Этот текст состоит из пяти частей. Поставь порядковые номера у первых четырех заголовков плана текста:</p> <ul style="list-style-type: none"> <input type="checkbox"/> Занятие по душе для каждого <input type="checkbox"/> Центральный вход в парк <input type="checkbox"/> Самый большой парк <input type="checkbox"/> Насыщенная жизнь парка <input type="checkbox"/> Парки Челябинска
1 балл	<p>Задание 1.1. В какой части текста «Парк им. Ю.А.Гагарина» можно узнать о преобразении парка? Отметь верное.</p> <ul style="list-style-type: none"> <input type="checkbox"/> Занятие по душе для каждого <input type="checkbox"/> Центральный вход в парк <input type="checkbox"/> Самый большой парк <input type="checkbox"/> Насыщенная жизнь парка <input type="checkbox"/> Парки Челябинска
1 балл	<p>Задание 2. Рассмотрите, как выглядит парк им. Ю.А. Гагарина с колеса обозрения. В какой части текста сообщается об этом?</p> <div style="text-align: center; margin: 10px 0;">  </div> <p>Запиши номер части текста: _____ .</p>

<p>Задание 2.1. Что узнали ребята о парке из текста и по фотографии? Отметь верные ответы.</p> <p><input type="checkbox"/> Глубину пруда в парке.</p> <p><input type="checkbox"/> В парке есть пруд и мостик к островку.</p> <p><input type="checkbox"/> Высоту колеса обозрения.</p> <p><input type="checkbox"/> В парке есть колесо обозрения, где можно увидеть Челябинск с высоты птичьего полета.</p>	<p>2 балла</p>								
<p>Задание 3. Герман прочитал текст и соединил стрелками год и события. Проверь его записи и отметь знаком <input checked="" type="checkbox"/> ошибку мальчика.</p> <table border="1" style="width: 100%; border-collapse: collapse;"> <tr> <td style="width: 30%; padding: 5px;"><input type="checkbox"/> 2007 год</td> <td style="width: 70%; padding: 5px;">Заработал фонтан с белыми лебедями</td> </tr> <tr> <td style="padding: 5px;"><input type="checkbox"/> 1934 год</td> <td style="padding: 5px;">Реконструкция парка</td> </tr> <tr> <td style="padding: 5px;"><input type="checkbox"/> 2017 год</td> <td style="padding: 5px;">Образован парк</td> </tr> <tr> <td style="padding: 5px;"><input type="checkbox"/> 2001 год</td> <td style="padding: 5px;">Парк имеет статус «Особо охраняемая природная территория»</td> </tr> </table>	<input type="checkbox"/> 2007 год	Заработал фонтан с белыми лебедями	<input type="checkbox"/> 1934 год	Реконструкция парка	<input type="checkbox"/> 2017 год	Образован парк	<input type="checkbox"/> 2001 год	Парк имеет статус «Особо охраняемая природная территория»	<p>2 балла</p>
<input type="checkbox"/> 2007 год	Заработал фонтан с белыми лебедями								
<input type="checkbox"/> 1934 год	Реконструкция парка								
<input type="checkbox"/> 2017 год	Образован парк								
<input type="checkbox"/> 2001 год	Парк имеет статус «Особо охраняемая природная территория»								
<p>Задание 3.1. Подсчитай, сколько лет прошло с тех пор, когда в парке заработал фонтан с белыми лебедями, до начала 2022 года.</p> <p>Допиши ответ: _____ лет.</p>	<p>1 балл</p>								
<p>Задание 4. Интересно, а почему именно парк привлекает взрослых отдыхающих? Отметь ответ знаком «+».</p> <p><input type="checkbox"/> В парке можно вкусно поесть.</p> <p><input type="checkbox"/> В парке можно искупаться в фонтане.</p> <p><input type="checkbox"/> В парке свежий воздух, уют и чистота.</p> <p><input type="checkbox"/> В парке можно шуметь и слушать громко музыку.</p>	<p>1 балл</p>								

1 балл	<p>Задание 4.1. Герман задумался, можно ли предложить разместить на гербе Челябинска символ парка им. Ю. А. Гагарина. Отметь верный ответ.</p> <p><input type="checkbox"/> Нет, так как парк был основан только в 1934 году, а город Челябинск намного раньше.</p> <p><input type="checkbox"/> Нет, так как парк не единственная достопримечательность города.</p> <p><input type="checkbox"/> Да, так как парк им. Ю. А. Гагарина – самый большой парк.</p> <p><input type="checkbox"/> Да, так как челябинцы гордятся парком.</p>
2 балла	<p>Задание 5. Много лет в парке им. Ю. А. Гагарина работает фонтан с белыми лебедями – символами любви и верности. Выбери подходящие пословицы об этих человеческих ценностях, отметь их знаком «+».</p> <p><input type="checkbox"/> Жизнь дана на добрые дела.</p> <p><input type="checkbox"/> Где любовь да совет, там и горя нет.</p> <p><input type="checkbox"/> Счастье с неба не падает.</p> <p><input type="checkbox"/> Милее всего, кто любит кого.</p> <p><input type="checkbox"/> Кто живет в добре, тот ходит в серебре.</p>
1 балл	<p>Задание 5.1. Что в дикой природе лебединая пара делает совместно? Ниже предложены подсказки из научной статьи: «Лебеди, самец и самка, оба участвуют в строительстве гнезда и высиживании яиц, вместе кормят потомство. Совместно защищают детёнышей, которые спустя пять месяцев после рождения учатся летать». Отметь знаком «+» верные ответы.</p> <p><input type="checkbox"/> защищает потомства</p> <p><input type="checkbox"/> высиживает яйца</p> <p><input type="checkbox"/> откладывает яйца</p> <p><input type="checkbox"/> вскармливает птенцов</p>
2 балла	<p>Задание 6. Ульяна прочитала содержание текста «Парк имени Юрия Алексеевича Гагарина» и написала: «В парке вот уже восьмой десяток лет проходят праздники, спортивные соревнования, митинги, концерты, шахматные турниры, лекции, экзамены, фестивали народного творчества, выборы».</p> <p>В предложении Ульяны подчеркни слова, которые отражают деятельность парка, указанную в тексте о парке.</p>

Задание 6.1. Семья Егора побывала в парке и возвращалась домой. На каком рейсе автобуса им выгоднее и быстрее доехать из Челябинска в Златоуст?

№	Время отправления	Время в пути	Цена билета
1	17:18	3 ч 13 мин	440 руб.
2	17:30	2 ч 17 мин	465 руб.
3	18:25	2 ч 17 мин	445 руб.
4	19:05	3 ч 5 мин	465 руб.

Запиши номер верного ответа: _____ .

Задание 7. Выбери подходящее высказывание из предложенных вариантов, отражающее основную мысль текста. Отметь знаком «+».

- Самый лучший парк Челябинска.
- Парк для любителей активного образа жизни.
- Парк, в котором каждому найдется занятие по душе.
- Самый большой парк.

Задание 7.1. Не всегда есть возможность приехать в парк им. Ю. А. Гагарина ребятам из других городов Челябинской области. Отметь две идеи, которые можно осуществить самостоятельно, чтобы больше узнать о парке.

- Найти на карте Челябинска парк им. Ю. А. Гагарина.
- Познакомиться с ребятами из других городов Челябинской области и организовать онлайн-встречу.
- Прочитать интересную информацию в Википедии о парке.
- Создать виртуальную экскурсию по парку.

Задание 8. Что можно узнать из текста о парке имени Юрия Алексеевича Гагарина? Из перечисленного выбери только необходимое и допиши предложение:

в каком районе города расположен парк, день рождения парка, площадь парка, количество аттракционов, год образования парка, стоимость билетов, почему парк носит имя Ю. А. Гагарина, год реконструкции парка, мероприятия парка, о занятиях для любителей активного отдыха, о времени работы парка

Продолжение задания	<p>Из текста о парке имени Ю. А. Гагарина можно узнать следующее:</p> <p>_____</p> <p>_____</p> <p>_____</p> <p>_____</p> <p>_____</p>						
2 балла	<p>Задание 8.1. Что из перечисленного в тексте о парке содержит в себе записи чисел? Подчеркни.</p> <p>в каком районе города расположен парк, день рождения парка, площадь парка, количество аттракционов, год образования парка, стоимость билетов, почему парк носит имя Ю. А. Гагарина, год реконструкции парка, мероприятия парка, о занятиях для любителей активного отдыха, о времени работы парка</p>						
2 балла	<p>Задание 9. Теперь понятно, что в этом парке могут проводиться спортивные соревнования с использованием собственных возможностей. Выбери из списка и запиши в таблицу только летние и только зимние соревнования: теннис, пейнтбол, картинг, коньки, шахматы, лыжи, шашки.</p> <table border="1" style="margin-left: 20px;"> <thead> <tr> <th style="background-color: #a0c0ff;">лето</th> <th style="background-color: #a0c0ff;">зима</th> </tr> </thead> <tbody> <tr> <td style="height: 20px;"> </td> <td style="height: 20px;"> </td> </tr> <tr> <td style="height: 20px;"> </td> <td style="height: 20px;"> </td> </tr> </tbody> </table>	лето	зима				
лето	зима						
2 балла	<p>Задание 9.1. Старшеклассник Егор с родителями и шестилетней сестрой решили приехать на автобусе из Златоуста в Ашу к бабушке. Какова стоимость билетов до Аши для всей семьи, если известно, что взрослый билет стоит 639 рублей, а детский билет (до 7 лет) – 557 рублей. Ответ: _____.</p> <p>На сколько рублей больше семья потратит за такую поездку, когда сестре исполнится семь лет?</p> <p>Ответ: _____.</p>						

Задание 10. Ребята из Кыштыма побывали в парке им. Ю. А. Гагарина в третью субботу июня. Пользуясь календарем, определи, в какой день состоялась экскурсия школьников.

ПН	ВТ	СР	ЧТ	ПТ	СБ	ВС
	1	2	3	4	5	6
7	8	9	10	11	12	13
14	15	16	17	18	19	20
21	22	23	24	25	26	27
28	29	30				

Запиши ответ: _____ июня.

1 балл

Задание 10.1. Пользуясь текстом «Парк имени Ю. А. Гагарина» и календарем мая 2024 года, определи, в какой день недели парку им. Ю. А. Гагарина исполнится 90 лет.

ПН	ВТ	СР	ЧТ	ПТ	СБ	ВС
		1	2	3	4	5
6	7	8	9	10	11	12
13	14	15	16	17	18	19
20	21	22	23	24	25	26
27	28	29	30	31		

День недели: _____.

1 балл

Задание 11. В 2001 году произошла реконструкция парка. Что такое реконструкция? Отметь знаком «+» верный вариант.

- Реконструкция – присвоение нового имени парку.
- Реконструкция – это увеличение площади парка.
- Реконструкция – это восстановление или переустройство чего-нибудь.
- Реконструкция – это снос старинных зданий и сооружений.

2 балла

Задание 11.1. Ещё через несколько лет территорию парка будут улучшать. Что из перечисленного запрещено делать в парках отдыха? Отметь знаком «+» верный вариант.

- сажать цветы
- косить газоны
- стричь кусты
- пилить деревья

2 балла

1 балл	<p>Задание 12. В конце весны одноклассники с учителем побывали в парке им. Ю. А. Гагарина. В своих сочинениях они описали, как выглядит парк.</p> <p><input type="checkbox"/> Марсель: «Парк имеет центральный вход, рядом с которым расположен фонтан. Здесь есть гранитные дорожки, лесные тропинки и множество аттракционов. В парке работают открытый теннисный корт, пейнтбольная площадка, картодром и крытый каток. Зимой действует лыжная база с освещенной трассой».</p> <p><input type="checkbox"/> Денис: «Парк имеет несколько входов, рядом с которыми расположены фонтаны. Здесь есть гранитные дорожки, лесные тропинки и множество аттракционов. В парке работают теннисный корт, пейнтбольная площадка, картодром и каток. Зимой действует лыжная база с освещенными трассами».</p> <p><input type="checkbox"/> Милана: «Парк имеет несколько входов. Рядом с центральным входом расположен фонтан. Здесь есть гранитные дорожки, лесные тропинки и множество аттракционов. В парке работают крытый теннисный корт, пейнтбольная площадка, картодром. Зимой действуют каток и лыжная база с освещенной трассой».</p> <p>Кто из ребят верно описал парк? Отметь знаком «+».</p>
2 балла	<p>Задание 12.1. Что в парке создано для отдыхающих с использованием природной воды? Подчеркни верное.</p> <p>гранитные дорожки, лесные тропинки, фонтан, лыжные трассы, детская железная дорога, каток, раздевалки, пруд, мостик</p>

Таблицу заполняет учитель!

№ задания	1.	1.1	2.	2.1	3.	3.1	4.	4.1	5.	5.1	6.	6.1	7.	7.1	8.	8.1	9.	9.1	10.	10.1	11.	11.1	12.	12.1
Баллы	1	1	1	2	1	1	1	1	2	1	2	1	1	2	2	2	2	2	1	2	1	1	1	2
Результат выполнения																								
Отметить задания (✓), выполняя которые обучающийся испытал затруднение																								

Текст к диагностической работе № 2**О путешествии по родному краю**

Здравствуй, Лиза! Мы с тобой редко видимся, и я решила написать тебе об интересном летнем путешествии. В третий вторник июня я побывала на экскурсии в городе Сатка. Много слышала об этом уголке нашей Родины, но чувства, которые меня переполняли после посещения, неповторимы.

При подъезде к городу экскурсовод обратил наше внимание на то, что город расположен в горной части нашей области и окружен лесами. Зрелище – дух захватывает! Затем мы слушали рассказ о том, что Сатка – небольшой город Челябинской области, расположенный на берегу реки Большая Сатка, в 184 километрах от столицы области. В 1758 году на этом месте появилось небольшое поселение, а статус города Сатка получила только в 1937 году. День рождения этого города отмечают 19 ноября. Сейчас в нем проживает чуть больше 42 000 жителей. А самая большая численность населения была в 2006 году: около 48 000.

Сатка – туристический город. Отсюда на поезде можно доехать до Златоуста, Челябинска, Екатеринбурга, Уфы, Троицка, Нязепетровска. Автобусные рейсы доведут в Челябинск, Екатеринбург, Бакал, Магнитогорск, Красноуфимск, Пермь, Златоуст, Уфу, Чебаркуль.

В Сатке особенный климат: зимы умеренно-холодные и долгие, а летом прохладно и большое количество осадков.

Лиза, ты знаешь, что у каждого города есть свой герб. Очень интересным показался мне герб Сатки. В центре герба изображены три белоснежные горы, которые отражаются в прозрачной воде. Синяя часть герба передает красоту окружающей природы. Нижняя часть герба окрашена золотом – символом богатства полезными ископаемыми.

Лиза, на экскурсии я много узнала об исторических улицах и памятниках города, его главных предприятиях, музеях и школах. Особенно запомнился национальный парк «Зюраткуль». Он расположен в 30 километрах южнее Сатки. Здесь можно увидеть озеро Зюраткуль, две реки, скалы, вязовую рощу и артезианский фонтан. Советую съездить на экскурсию в Сатку. Напиши, где этим летом побывала ты. До свидания! Твоя подруга Лена.

Текст «О путешествии по родному краю» вторично напечатан во вкладыше, его необходимо открепить из центра сборника и для комфортного и успешного выполнения заданий диагностической работы положить рядом с задачными формулировками.

Задания к диагностической работе № 2

1 балл	<p>Задание 1. Текст письма состоит из шести частей. Поставь порядковые номера у первых четырех заголовков плана текста:</p> <ul style="list-style-type: none"><input type="checkbox"/> Климат Сатки<input type="checkbox"/> Герб города<input type="checkbox"/> Интересное летнее путешествие<input type="checkbox"/> Рассказ экскурсовода<input type="checkbox"/> Совет подруге<input type="checkbox"/> Транспортное сообщение
1 балл	<p>Задание 1.1. В какой части текста «О путешествии по родному краю» можно узнать о прошлом Сатки? Отметь верное.</p> <ul style="list-style-type: none"><input type="checkbox"/> Климат Сатки<input type="checkbox"/> Герб города<input type="checkbox"/> Интересное летнее путешествие<input type="checkbox"/> Рассказ экскурсовода<input type="checkbox"/> Совет подруге<input type="checkbox"/> Транспортное сообщение
1 балл	<p>Задание 2. К какой части текста можно отнести эту фотографию?</p> <div data-bbox="528 1120 1335 1520" data-label="Image"></div> <p>Запиши номер части текста: _____.</p>
2 балла	<p>Задание 2.1. Что можно узнать о национальном парке «Зюраткуль» из текста и по фотографии? Отметь верные ответы.</p> <ul style="list-style-type: none"><input type="checkbox"/> Национальный парк занесен в книгу рекордов.<input type="checkbox"/> Национальный парк находится в 30 километрах южнее Сатки.<input type="checkbox"/> В национальном парке обитает около 40 видов животных.<input type="checkbox"/> Национальный парк призывает любить природу, относиться к ней бережно.

Задание 3. Лиза, прочитав письмо, установила соответствия, представленные ниже. Проверь её записи и отметь знаком ошибку девочки.

<input type="checkbox"/> 19 ноября	→	Появилось первое поселение
<input type="checkbox"/> 42 000	→	День рождения города
<input type="checkbox"/> 1758 год	→	Сатка получила статус города
<input type="checkbox"/> 1937 год	→	Жителей проживало в Сатке в 2006 году

1 балл

Задание 3.1. Подсчитай, сколько лет прошло с тех пор, когда в Сатке была самая большая численность населения, если идет 2022 год.

Допиши ответ: _____ лет.

1 балл

Задание 4. Почему на гербе Сатки изображены горы?

Отметь ответ знаком .

- Расположена на берегу реки Большая Сатка.
- Расположена в горной части нашей области.
- Окружена красивыми лесами.
- Расположена в 184 км от Челябинска.

1 балл

Задание 4.1. Лиза задумалась, можно ли предложить разместить на гербе Сатки символ национального парка «Зюраткуль».

Отметь верный ответ.

- Нет, так как национальный парк был основан только в 1993 году.
- Нет, так как национальный парк не единственная достопримечательность Саткинского района.
- Да, так как национальный парк – главная достопримечательность города.
- Да, так как саткинцы гордятся национальным парком.

1 балл

2 балла

Задание 5. Изучи содержание таблицы № 1. В ней зеленым цветом отмечены северные соседи Сатки. Голубым цветом – южные соседи. Желтым цветом обозначен сосед на востоке, а оранжевым – сосед на западе.

Таблица №1

г. ЮРЮЗАНЬ	г. КУСА
г. КАТАВ-ИВАНОВСК	п. МАГНИТКА
г. ЗЛАТОУСТ	БАШКОРТОСТАН

В предложениях, записанных ниже, есть скобки со словами. Подчеркни в них только верные по смыслу слова.

Восточным соседом Сатки является (Катав-Ивановск или Златоуст). Сатка на севере граничит с городом (Магнитка или Куса). Западным соседом Сатки является (Башкортостан или Казахстан). Город Сатка на юге граничит с (Юрюзанью или Златоустом).

1 балл

Задание 5.1. Через год, во время каникул, Лена с родителями решили посетить города, расположенные южнее Сатки. Отметь их.

- Куса и п. Магнитка
- Златоуст и Куса
- Юрюзань и Катав-Ивановск
- Башкортостан и Златоуст

2 балла

Задание 6. Лиза прочла письмо и написала небольшой рассказ.

В предложениях Лизы допиши в слово «НЕ» там, где это необходимо.

Сатка – большой город Челябинской области, который расположен в 184 километрах от Челябинска. Он всегда носил статус города. В нем всегда проживало 48 000 жителей. Сейчас в Сатке проживает больше 42 000 человек. Сатка окружена лесами. В городе всегда долгие и умеренно-холодные зимы. Летом всегда идут дожди.

1 балл

Задание 6.1. На каком рейсе автобуса пассажиру выгоднее и быстрее доехать из Челябинска в Сатку?

№	Время отправления	Время в пути	Цена билета
1	07:18	4 ч 15 мин	635 руб.
2	07:30	3 ч 59 мин	653 руб.
3	08:25	4 ч 10 мин	660 руб.
4	09:05	3 ч 59 мин	635 руб.

Запиши номер верного ответа: _____ .

<p>Задание 7. Текст письма Лены назван «О путешествии по родному краю». Выбери другое подходящее название из предложенных вариантов, отражающее основную мысль текста, отметь знаком «+».</p> <p><input type="checkbox"/> Самый маленький город Челябинской области</p> <p><input type="checkbox"/> Герб города Сатки</p> <p><input type="checkbox"/> Особенный климат в Сатке</p> <p><input type="checkbox"/> Впечатления о летнем путешествии</p>	<p>1 балл</p>
<p>Задание 7.1. Не всегда есть возможность путешествовать по родному краю. Отметь две самые эффективные идеи, с помощью чего можно рассказать о Сатке, чтобы как можно больше людей узнали о достопримечательностях этого удивительного края.</p> <p><input type="checkbox"/> Просмотреть по карте Челябинской области маршрут путешествия.</p> <p><input type="checkbox"/> Познакомиться с ребятами из Сатки и организовать онлайн-встречу.</p> <p><input type="checkbox"/> Прочитать о городе краткую информацию в Википедии.</p> <p><input type="checkbox"/> Создать виртуальную экскурсию по Сатке.</p>	<p>2 балла</p>
<p>Задание 8. Что узнала и увидела Лена в путешествии? Из перечисленного выбери только необходимое и допиши предложение:</p> <p>число жителей в 1937 году, уникальное расположение города, особенности климата, погода в осенний период, день рождения города, год образования поселения, исторические улицы и памятники, музеи, школы, стоимость проезда автобусом, национальный парк «Зюраткуль»</p> <p>Путешествуя по Сатке, Лена узнала и увидела следующее:</p> <p>_____</p> <p>_____</p> <p>_____</p> <p>_____</p>	<p>2 балла</p>
<p>Задание 8.1. Что из перечисленного можно отметить как достопримечательности? Подчеркни.</p> <p>число жителей в 1937 году, уникальное расположение города, особенности климата, погода в осенний период, день рождения города, год образования поселения, исторические улицы и памятники, музеи, школы, стоимость проезда автобусом, национальный парк «Зюраткуль»</p>	<p>2 балла</p>

2 балла

Задание 9. Хорошо, когда турист может уехать в путешествие на поезде или на автобусе. Запиши из текста в таблицу названия всех населенных пунктов, куда можно доехать из Сатки.

Доехать на поезде	Доехать на автобусе	Доехать только на автобусе

2 балла

Задание 9.1. Старшеклассник Вадим с родителями и шестилетней сестрой решил приехать на автобусе из Челябинска в Сатку к бабушке. Какова стоимость билетов до Сатки для всей семьи, если известно, что взрослый билет стоит 635 рублей, а детский билет (до 7 лет) – 393 рубля.

Ответ: _____.

Известно, что поездка на поезде из Челябинска до Сатки для семьи Вадима обойдется в 1960 рублей. Отметь верный вывод знаком .

- стоимость билетов на автобус дешевле, чем на поезд
- стоимость билетов на поезд значительно дешевле, чем на автобус
- стоимость билетов на автобус равна стоимости билетов на поезд
- стоимость билетов на поезд дороже, чем на автобус.

1 балл

Задание 10. Пользуясь календарем, определи, в какой день состоялось путешествие Лены в Сатку.

ПН	ВТ	СР	ЧТ	ПТ	СБ	ВС
				1	2	3
4	5	6	7	8	9	10
11	12	13	14	15	16	17
18	19	20	21	22	23	24
25	26	27	28	29	30	

Запиши ответ: _____ июня.


Задание 10.1. Известно, что по пятницам и выходным дням люди путешествуют чаще и не всегда можно купить билеты для проезда. Запиши, в какие даты второй недели июня путешествовать лучше?

ПН	ВТ	СР	ЧТ	ПТ	СБ	ВС
				1	2	3
4	5	6	7	8	9	10
11	12	13	14	15	16	17
18	19	20	21	22	23	24
25	26	27	28	29	30	

Запиши ответ: _____ июня.

2 балла

Задание 11. Рассмотрите четыре герба – символа поселений. Отметьте знаком изображение герба Сатки.



1 балл

Задание 11.1. Что, выбранное для символов герба Сатки, нуждается в разумном использовании? Отметьте.

- красота окружающей природы
- чистое небо над головой
- богатство недр уральской земли
- мужество и храбрость жителей города

1 балл

Задание 12. Лиза с родителями тоже отправилась на экскурсию в город Сатку в конце лета. Девочка написала о погоде, которая была в день поездки: «С утра мы отправились в долгожданное путешествие. Мы беспокоились, что будет холодно, ведь ночью температура воздуха была на 3 градуса ниже, чем в предыдущую ночь. Однако утро было солнечным. Днем температура воздуха повысилась на 10 градусов. После экскурсии мы поехали на озеро Зюраткуль в окрестности Сатки. Там нам очень понравилось. Даже вечерний дождь не испортил отличное настроение».

1 балл

Продолжение задания 12

Сравни информацию о погоде за три дня. В какой день состоялась экскурсия?

17 августа
Ночь: **21°**
Утро: Облачно
День: **24°**
Вечер: Дождь

18 августа
Ночь: **18°**
Утро: Ясно
День: **28°**
Вечер: Облачно

19 августа
Ночь: **15°**
Утро: Ясно
День: **25°**
Вечер: Дождь

Ответ: ____ августа.

2 балла

Задание 12.1. Сравни информацию о погоде за три дня.

17 августа
Ночь: **21°**
Утро: Облачно
День: **24°**
Вечер: Дождь

18 августа
Ночь: **18°**
Утро: Ясно
День: **28°**
Вечер: Облачно

19 августа
Ночь: **15°**
Утро: Ясно
День: **25°**
Вечер: Дождь

Отметь верные высказывания.

- Три дня по утрам было ясно.
- Три дня были с осадками.
- 18 августа была самая жаркая погода.
- 19 августа была самая холодная ночь.

Таблицу заполняет учитель!

№ задания	1.	1.1	2.	2.1	3.	3.1	4.	4.1	5.	5.1	6.	6.1	7.	7.1	8.	8.1	9.	9.1	10.	10.1	11.	11.1	12.	12.1
Баллы	1	1	1	2	1	1	1	1	2	1	2	1	1	2	2	2	2	2	1	2	1	1	1	2
Результат выполнения																								
Отметить задания (✓), выполняя которые обучающийся испытал затруднение																								

Текст к диагностической работе № 3

В зоопарке Челябинска

Школьники челябинской гимназии № 104 в период осенних каникул посетили челябинский зоопарк, расположенный на площади в 30 гектаров. Здесь, в хороших условиях, обитают более 133 видов животных, 85 из которых внесены в Красную книгу. Зоопарк является уникальным местом, в котором содержатся животные местной фауны и экзотические животные из разных уголков мира. На территории зоопарка находится детский контактный зоопарк, аквариум, террариум, инсектарий (специальное помещение для содержания и разведения насекомых).

В 1992 году в Челябинск были привезены 16 диких животных для создания небольшого зоопарка. В 1994 году была выделена земля под его строительство. Официально зоопарк существует с 13 сентября 1996 года. В 1997 году был построен «Детский контактный зоопарк», который стал первым зоопарком в России, где дети могли познакомиться и пообщаться с домашними животными, погладить их. А с 2004 года в зоопарке работает единственный в городе «Клуб юных биологов». Сотрудники зоопарка обучают ребят и передают свой опыт. Каждый год территория челябинского зоопарка преобразуется, продолжается строительство новых вольеров для животных, улучшаются условия их содержания, ухода и питания.


Наибольшей популярностью у посетителей пользуются африканские львы, амурские тигры, шимпанзе обыкновенный, снежный барс, восточносибирские рыси, африканские леопарды, алтайские маралы, саванные зебры, бурые и белые медведи, лисы и волки.

Для посетителей проводятся экологические мероприятия: экскурсии, лекции-занятия с контактными животными, квест-игры, конкурсы, викторины, экологические акции. Также сотрудники зоопарка организуют культурно-массовые мероприятия, поддерживают народные традиции, проводя календарные праздники: Масленицу, День защиты детей, День России, День Победы, День знаний, Новый год, День Города.

Челябинский зоопарк – это важный объект в городе, музей живой природы, который каждый раз производит неизгладимое впечатление на посетителей, оказывает эмоциональное воздействие, учит людей добру и бережному отношению к миру живой природы.

Текст «В зоопарке Челябинска» вторично напечатан во вкладыше, его необходимо открепить из центра сборника и для комфортного и успешного выполнения заданий диагностической работы положить рядом с задачными формулировками.

Задания к диагностической работе № 3

1 балл	<p>Задание 1. Этот текст состоит из пяти частей. Поставь порядковые номера у первых четырех заголовков плана текста:</p> <ul style="list-style-type: none"><input type="checkbox"/> Самые популярные животные<input type="checkbox"/> Культурно-массовые мероприятия в зоопарке<input type="checkbox"/> Из истории зоопарка<input type="checkbox"/> Важный объект в городе<input type="checkbox"/> Экскурсия в зоопарк
1 балл	<p>Задание 1.1. В какой части текста «В зоопарке Челябинска» можно узнать об инсектарии? Отметь верное.</p> <ul style="list-style-type: none"><input type="checkbox"/> Самые популярные животные<input type="checkbox"/> Культурно-массовые мероприятия в зоопарке<input type="checkbox"/> Из истории зоопарка<input type="checkbox"/> Важный объект в городе<input type="checkbox"/> Экскурсия в зоопарк
1 балл	<p>Задание 2. Рассмотрите, как выглядит практическое занятие у юного биолога. В какой части текста сообщается об этом?</p>  <p>Запиши номер части текста: _____ .</p>

<p>Задание 2.1. Что узнали ребята о зоопарке из текста и по фотографии? Отметь верные ответы.</p> <p><input type="checkbox"/> Часы работы зоопарка.</p> <p><input type="checkbox"/> Площадь зоопарка.</p> <p><input type="checkbox"/> Стоимость билетов в зоопарк.</p> <p><input type="checkbox"/> В клубе юных биологов есть не только теоретические занятия, но и практические.</p>	2 балла								
<p>Задание 3. Зоя прочитала текст и соединила стрелками год и события. Проверь её записи и отметь знаком <input checked="" type="checkbox"/> ошибку девочки.</p> <table border="1" data-bbox="121 801 1390 1160"> <tr> <td><input type="checkbox"/> 1996 год</td> <td>→ Был построен «Детский контактный зоопарк».</td> </tr> <tr> <td><input type="checkbox"/> 1994 год</td> <td>→ Официальное открытие зоопарка.</td> </tr> <tr> <td><input type="checkbox"/> 1997 год</td> <td>→ Начал работу «Клуб юных биологов».</td> </tr> <tr> <td><input type="checkbox"/> 1992 год</td> <td>→ Завезены первые животные для небольшого зоопарка.</td> </tr> </table>	<input type="checkbox"/> 1996 год	→ Был построен «Детский контактный зоопарк».	<input type="checkbox"/> 1994 год	→ Официальное открытие зоопарка.	<input type="checkbox"/> 1997 год	→ Начал работу «Клуб юных биологов».	<input type="checkbox"/> 1992 год	→ Завезены первые животные для небольшого зоопарка.	1 балл
<input type="checkbox"/> 1996 год	→ Был построен «Детский контактный зоопарк».								
<input type="checkbox"/> 1994 год	→ Официальное открытие зоопарка.								
<input type="checkbox"/> 1997 год	→ Начал работу «Клуб юных биологов».								
<input type="checkbox"/> 1992 год	→ Завезены первые животные для небольшого зоопарка.								
<p>Задание 3.1. Подсчитай, сколько лет прошло с тех пор, когда в зоопарке заработал «Детский контактный зоопарк», если на календаре 2022 год.</p> <p>Допиши ответ: _____ лет.</p>	1 балл								
<p>Задание 4. Интересно, почему зоопарк является уникальным местом? Отметь ответ знаком «+».</p> <p><input type="checkbox"/> Зоопарк интересен взрослым и детям.</p> <p><input type="checkbox"/> Челябинский зоопарк работает 7 дней в неделю.</p> <p><input type="checkbox"/> Площадь челябинского зоопарка огромна.</p> <p><input type="checkbox"/> В зоопарке обитают более 133 видов животных, 85 из которых внесены в Красную книгу.</p>	1 балл								

1 балл	<p>Задание 4.1. Зоя задумалась, можно ли предложить разместить на гербе Челябинска символ зоопарка. Отметь верный ответ.</p> <p><input type="checkbox"/> Нет, так как зоопарк был основан только в 1996 году, а город Челябинск намного раньше.</p> <p><input type="checkbox"/> Нет, так как зоопарк не единственная достопримечательность города.</p> <p><input type="checkbox"/> Да, так как площадь зоопарка огромна – 30 гектаров.</p> <p><input type="checkbox"/> Да, так как челябинцы и гости города любят посещать зоопарк.</p>																				
2 балла	<p>Задание 5. Как много можно узнать о животных, гуляя по зоопарку! Отметь знаком «+» две пословицы, которые сообщают о правилах поведения с животными.</p> <p><input type="checkbox"/> Не гони коня кнутом, а гони его овсом.</p> <p><input type="checkbox"/> Не балуйся с медведем — задавит.</p> <p><input type="checkbox"/> Хищную птицу по клюву узнают.</p> <p><input type="checkbox"/> Сорока без причины не стрекочет.</p> <p><input type="checkbox"/> Волка пожалей – искушает еще злей.</p>																				
1 балл	<p>Задание 5.1. Подчеркни, каких животных запрещено содержать в детских контактных зоопарках.</p> <p style="padding-left: 40px;">ослики, кролики, утки, куры, медвежата, лисята, морские свинки, павлины</p>																				
2 балла	<p>Задание 6. Роза прочитала содержание текста «В зоопарке Челябинска» и написала:</p> <p>«В зоопарке обитает более 133 видов животных. Наибольшей популярностью у посетителей пользуются африканские львы, амурские тигры, енотовидные собаки, белые медведи, обыкновенные носухи, снежный барс, лисы, зайцы, волки, гималайские медведи, европейские норки, алтайские маралы, саванные зебры, восточносибирские рыси».</p> <p>В предложении Розы подчеркни тех животных, которые действительно пользуются популярностью у посетителей зоопарка.</p>																				
1 балл	<p>Задание 6.1. Семья Давида побывала в зоопарке и возвращалась домой. На каком рейсе автобуса им выгоднее и быстрее доехать из Челябинска в Южноуральск?</p> <table border="1" style="width: 100%; border-collapse: collapse; text-align: center;"> <thead> <tr style="background-color: #f2f2f2;"> <th>№</th> <th>Время отправления</th> <th>Время в пути</th> <th>Цена билета</th> </tr> </thead> <tbody> <tr> <td>1</td> <td>18:40</td> <td>1 ч 35 мин</td> <td>284 руб.</td> </tr> <tr> <td>2</td> <td>17:30</td> <td>1 ч 25 мин</td> <td>293 руб.</td> </tr> <tr> <td>3</td> <td>18:20</td> <td>1 ч 21 мин</td> <td>284 руб.</td> </tr> <tr> <td>4</td> <td>19:00</td> <td>1 ч 21мин</td> <td>290 руб.</td> </tr> </tbody> </table> <p>Запиши номер верного ответа: _____ .</p>	№	Время отправления	Время в пути	Цена билета	1	18:40	1 ч 35 мин	284 руб.	2	17:30	1 ч 25 мин	293 руб.	3	18:20	1 ч 21 мин	284 руб.	4	19:00	1 ч 21мин	290 руб.
№	Время отправления	Время в пути	Цена билета																		
1	18:40	1 ч 35 мин	284 руб.																		
2	17:30	1 ч 25 мин	293 руб.																		
3	18:20	1 ч 21 мин	284 руб.																		
4	19:00	1 ч 21мин	290 руб.																		

<p>Задание 7. Выбери подходящее высказывание из предложенных вариантов, отражающее основную мысль текста. Отметь знаком «+».</p> <p><input type="checkbox"/> Самый лучший зоопарк в России.</p> <p><input type="checkbox"/> Зоопарк, который работает 7 дней в неделю.</p> <p><input type="checkbox"/> Зоопарк, в котором можно заниматься спортом.</p> <p><input type="checkbox"/> Зоопарк – музей живой природы.</p>	1 балл
<p>Задание 7.1. Не всегда есть возможность приехать в зоопарк ребятам из других городов Челябинской области. Отметь две идеи, которые можно осуществить самостоятельно, чтобы больше узнать о зоопарке.</p> <p><input type="checkbox"/> Найти на карте Челябинска место расположения зоопарка.</p> <p><input type="checkbox"/> Сделать фотоколлаж животных зоопарка, которые внесены в Красную книгу.</p> <p><input type="checkbox"/> Прочитать краткую информацию в Википедии о зоопарке.</p> <p><input type="checkbox"/> Создать виртуальную экскурсию по зоопарку.</p>	2 балла
<p>Задание 8. Что можно узнать из текста о зоопарке? Из перечисленного выбери только необходимое и допиши предложение:</p> <p>в каком районе города расположен зоопарк, день рождения зоопарка, его площадь, количество вольеров, стоимость билетов, количество сотрудников зоопарка, год реконструкции зоопарка, мероприятия зоопарка, о времени работы зоопарка, о самых популярных животных</p> <p>Из текста о зоопарке Челябинска можно узнать следующее:</p> <p>_____</p> <p>_____</p> <p>_____</p> <p>_____</p> <p>_____</p> <p>_____</p>	2 балла
<p>Задание 8.1. Что из перечисленного о зоопарке Челябинска можно считать его достопримечательностями? Подчеркни:</p> <p>в каком районе города расположен зоопарк, «Клуб юных биологов», день рождения зоопарка, его площадь, стоимость билетов, количество сотрудников зоопарка, год реконструкции зоопарка, время работы зоопарка, экзотические животные, детский контактный зоопарк, инсектарий</p>	2 балла

2 балла

Задание 9. Сотрудники зоопарка ещё организуют замечательные праздники! Запиши в таблицу названия праздников по временам года: День Победы, День защиты детей, День знаний, Новый год, День Города.

Лето	Осень	Зима	Весна

2 балла

Задание 9.1. Старшеклассник Толя с родителями и шестилетним братом решил приехать на автобусе из Сатки в Сим к тётё. Какова стоимость билетов до Сима для всей семьи, если известно, что взрослый билет стоит 345 рублей, а детский билет (до 7 лет) – 297 рублей.
 Ответ: _____.
 На сколько рублей больше семья потратит за такую поездку, когда брату исполнится семь лет?
 Ответ: _____.

1 балл

Задание 10. Ребята из гимназии № 104 побывали в зоопарке во вторую среду ноября. Пользуясь календарем, определи, в какой день состоялась экскурсия школьников.

ПН	ВТ	СР	ЧТ	ПТ	СБ	ВС
1	2	3	4	5	6	7
8	9	10	11	12	13	17
15	16	17	18	19	20	21
22	23	24	25	26	27	28
29	30					

Запиши ответ: _____ ноября.

2 балла

Задание 10.1. Пользуясь текстом «В зоопарке Челябинска» и календарем сентября 2026 года, определи, в какой день недели зоопарку исполнится 30 лет.

ПН	ВТ	СР	ЧТ	ПТ	СБ	ВС
	1	2	3	4	5	6
7	8	9	10	11	12	13
14	15	16	17	18	19	20
21	22	23	24	25	26	27
28	29	30				

День недели: _____.

Обычно к таким праздникам ждут много гостей. Запиши дату, когда гости должны приехать накануне вечером, перед праздником.
 Дата: _____ сентября.

<p>Задание 11. 85 видов животных из зоопарка Челябинска внесены в Красную книгу. А для чего она создана? Отметь знаком «+» верный вариант.</p> <p><input type="checkbox"/> В Красной книге есть названия всех животных на планете.</p> <p><input type="checkbox"/> Цвет книги привлекает новых читателей.</p> <p><input type="checkbox"/> В Красной книге можно найти информацию не только о животных, но и о растениях.</p> <p><input type="checkbox"/> Красная книга содержит сведения о редких, исчезающих животных, нуждающихся в охране.</p>	1 балл
<p>Задание 11.1. Почему челябинский зоопарк авторы текста считают важным объектом в городе. Отметь знаком «+» верные варианты.</p> <p><input type="checkbox"/> занимает огромную территорию Челябинска</p> <p><input type="checkbox"/> Это музей живой природы, который производит неизгладимые впечатления</p> <p><input type="checkbox"/> учит людей бережному отношению к миру живой природы</p> <p><input type="checkbox"/> находится в центре города Челябинска</p>	1 балл
<p>Задание 12. Посетив зоопарк, учащиеся гимназии № 104 узнали, что существует более 130 видов обезьян. Рассмотрите эту фотографию, прочитайте описания трех видов обезьян (№ 1, № 2, № 3) и определите, какой вид обезьяны на фотографии.</p> <div data-bbox="258 960 1070 1429" style="text-align: center;">  </div> <p>№ 1: Горилла является самой сильной из обезьян. Мощное тело покрывает длинная, густая черная шерсть, особенно передние конечности и голову. У самцов на спине шерсть становится серебристой. Цвет кожи – тоже черный.</p> <p>№ 2: Макаки — приматы средней величины с крепким туловищем и сильными конечностями. Их густая шерсть окрашена в серо-коричневый цвет. На продолговатой мордочке нет волос. У некоторых видов на голове имеются своеобразные бороды. Важным отличительным признаком является длинный хвост.</p> <p>№ 3: Шимпанзе могут достигать роста до 1,70 метра и весить 70 кг (самцы). Самки, как правило, меньше. Все тело животного покрыто длинными грубыми темными волосами, за исключением лица и внутренней части рук и ног.</p> <p>Запиши номер описания: _____.</p>	1 балл

Задание 12.1. Дима уточнил из текста, что такое инсектарий. Теперь он хорошо знает отличия аквариума, инсектария и террариума, где содержатся змеи, черепахи, ящерицы. Соедини стрелками фотографии и названия помещений.

2 балл



Аквариум



Террариум



Инсектарий

Таблицу заполняет учитель!

№ задания	1.	1.1	2.	2.1	3.	3.1	4.	4.1	5.	5.1	6.	6.1	7.	7.1	8.	8.1	9.	9.1	10.	10.1	11.	11.1	12.	12.1
Баллы	1	1	1	2	1	1	1	1	2	1	2	1	1	2	2	2	2	2	1	2	1	1	1	2
Результат выполнения																								
Отметить задания (✓), выполняя которые обучающийся испытал затруднение																								

<p>кукле в театре, год переезда в новое здание, о репертуаре кукольных спектаклей, о времени начала спектакля</p>	Продолжение Задания 8.1						
<p>Задание 9. Школьники Челябинской области приняли участие в конкурсе «Театр-дети». Некоторые ребята получили грамоты за свои успехи. А победители побывали в детском центре «Артек» в Крыму. Допиши в таблицу недостающую информацию, используя слова для справок.</p> <table border="1" data-bbox="127 784 1396 1142"> <thead> <tr> <th data-bbox="127 784 502 873">Названия конкурсов</th> <th data-bbox="502 784 1396 873">Грамота</th> </tr> </thead> <tbody> <tr> <td data-bbox="127 873 502 1008"></td> <td data-bbox="502 873 1396 1008">«За лучший отзыв о спектакле»</td> </tr> <tr> <td data-bbox="127 1008 502 1142">конкурс рисунков о театре</td> <td data-bbox="502 1008 1396 1142">«Талантливому художнику»</td> </tr> </tbody> </table> <p>Слова для справок: «За лучшую афишу», «За лучший рассказ о театре», конкурс сочинений «Пишем о театре!», «За лучший рисунок костюма», «За лучший отзыв об игре актера».</p>	Названия конкурсов	Грамота		«За лучший отзыв о спектакле»	конкурс рисунков о театре	«Талантливому художнику»	2 балла
Названия конкурсов	Грамота						
	«За лучший отзыв о спектакле»						
конкурс рисунков о театре	«Талантливому художнику»						
<p>Задание 9.1. Старшеклассник Максим с родителями и шестилетней сестрой решил приехать на автобусе из поселка Травники в Челябинск. Какова стоимость билетов до Челябинска для всей семьи, если известно, что взрослый билет стоит 274 рубля, а детский билет (до 7 лет) – 220 рублей. Ответ: _____.</p> <p>На сколько рублей больше семья потратит за такую поездку, когда сестре исполнится семь лет?</p> <p>Ответ: _____.</p>	2 балла						

1 балл

Задание 10. Ребята из Тюбука побывали в челябинском театре кукол в четвертую субботу июня. Пользуясь календарем, определи, в какой день состоялся спектакль для школьников.

ПН	ВТ	СР	ЧТ	ПТ	СБ	ВС
	1	2	3	4	5	6
7	8	9	10	11	12	13
14	15	16	17	18	19	20
21	22	23	24	25	26	27
28	29	30				

Запиши ответ: _____ июня.

2 балла

Задание 10.1. Пользуясь текстом «Челябинский театр кукол» и календарем октября 2025 года, определи, в какой день недели театру исполнится 90 лет.

ПН	ВТ	СР	ЧТ	ПТ	СБ	ВС
		1	2	3	4	5
6	7	8	9	10	11	12
13	14	15	16	17	18	19
20	21	22	23	24	25	26
27	28	29	30	31		

Запиши ответ: _____.

А праздничный салют в честь юбилея театра состоится в ближайшее воскресенье. Запиши эту дату: _____ октября.

1 балл

Задание 11. Теперь ты знаешь, что с 2008 года в нашей стране привлекается внимание к чему-то главному. Какие годы посвящены изучению событий, произошедших только в нашей стране – России? Допиши цифрами.

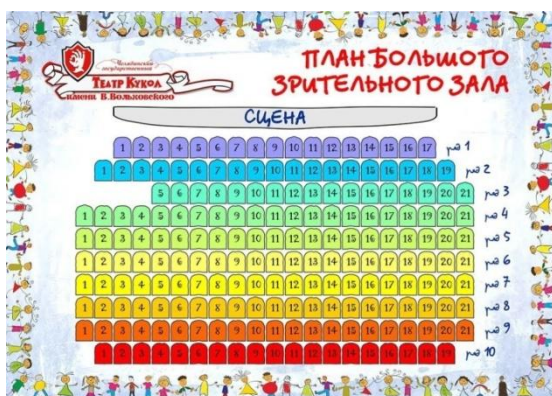
20____ год, 20____ год.

Задание 11.1. Вокруг здания Челябинского театра кукол стараются украшать территорию. Что из перечисленного не относится к природной среде? Отметь знаком «+» верный вариант.

- деревья
- скульптуры
- газоны
- цветы

1 балл

Задание 12. Афиша – это объявление о спектакле, концерте, фестивале. Отметь знаком только афиши, которые нашел Сережа в сети Интернет.



1 балл

2 балла

Задание 12. 1. В детских сказках героиней бывает лягушка. А в природе лягушки в первый год жизни, к началу осени, имеют в среднем 30,3 мм длины тела. Изучи информацию в таблице, насколько увеличивается длина тела лягушки.

Время года	Прирост в мм
Первая осень	12,5
Первое лето	15,0
Второе лето	7,1
Третье лето	3,7

Запиши, какой будет длина тела лягушки после первой осени жизни:

_____ мм.

Запиши, в какое лето у лягушек длина тела увеличивается больше всего: _____ .

Самооценка обучающегося по результатам выполнения заданий репетиционной работы

№ задания	1.	1.1	2.	2.1	3.	3.1	4.	4.1	5.	5.1	6.	6.1	7.	7.1	8.	8.1	9.	9.1	10.	10.1	11.	11.1	12.	12.1
Баллы	1	1	1	2	1	1	1	1	2	1	2	1	1	2	2	2	2	2	1	2	1	1	1	2
Результат выполнения																								
Отметь то задание галочкой (✓), которое при выполнении вызвало у тебя затруднение																								

Мною достигнут успех в выполнении заданий репетиционной работы, так как общее количество баллов за их выполненные составило.....

Я достигну лучших результатов в выполнении репетиционной работы, если научусь выполнять задания, которые для меня были трудными...

№№ _____

Текст к репетиционной работе № 3

Озеро Кисегач

Озеро Кисегач – одно из крупных озер Челябинской области. Расположено среди невысоких, покрытых красивейшими лесами гор Южного Урала в Чебаркульском районе. Природа озера так живописна и уникальна, что с 1969 года эта территория считается памятником природы.

В переводе с башкирского Кисегач – озеро с крутыми берегами. Если взглянуть на них, то можно увидеть, что некоторые берега озера резко обрываются у воды. Кстати, так озеро называлось не всегда. На карте 1742 года указано его первое название – Кисегау.

Озеро Кисегач глубокое: средняя глубина около 12 метров, а самые глубокие места до 34 метров. Как красивы озерные берега, они каменистые, покрыты лесом, изрезаны многочисленными заливами! На озере есть одиннадцать островов. Самые крупные острова расположены в северной части озера. Западный берег озера граничит со знаменитым на весь мир Ильменским заповедником.

В озере обитают окунь, чебак, щука, линь, сиг, ёрш, лещ, язь, корюшка. Водятся и раки. На островах гнездятся водоплавающие птицы, в том числе дикие утки и чайки.

Вода озера достаточно чистая, однако дно просматривается на глубину четырех метров. Озерная вода используется как источник питьевой воды для ближайших санаториев.

Климат на этой территории благоприятный. Летом много солнечных дней. Купальный сезон на озере длится с 15 июля по 15 августа, температура воды достигает 22 градусов.

В 1926 году на берегу озера Кисегач был открыт первый дом отдыха. В военные годы (1941–1945) в доме отдыха работал госпиталь, где лечили раненых бойцов. «Кисегач» работает и сегодня, это одна из лучших и ведущих здравниц Урала.

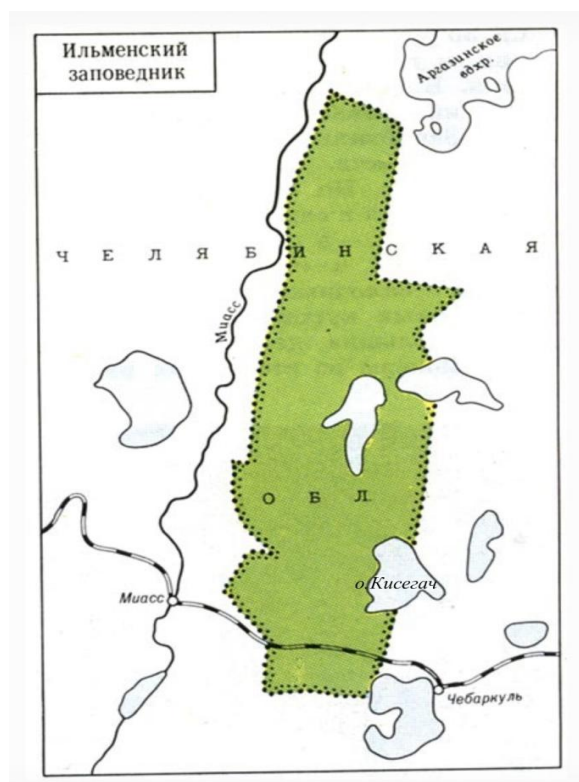
Чем же привлекает туристов озеро Кисегач? Оно является курортным местом и вполне оправдывает свой статус. Ежегодно в домах отдыха и здравницах бывают тысячи гостей. Туристы и отдыхающие считают озеро Кисегач редкостным даром природы за чистый целебный воздух и прекрасный ландшафт.

Текст «Озеро Кисегач» вторично напечатан во вкладыше, его необходимо открепить из центра сборника и для комфортного и успешного выполнения заданий репетиционной работы положить рядом с задачными формулировками.

Задания к репетиционной работе № 3

1 балл	<p>1. Этот текст состоит из восьми частей. Поставь порядковые номера у первых четырех заголовков плана текста:</p> <ul style="list-style-type: none"><input type="checkbox"/> Озеро с крутыми берегами<input type="checkbox"/> Дом отдыха «Кисегач»<input type="checkbox"/> Курорт озера Кисегач<input type="checkbox"/> Источник питьевой воды<input type="checkbox"/> Памятник природы<input type="checkbox"/> Животные озера<input type="checkbox"/> Благоприятный климат<input type="checkbox"/> Глубокое озеро
1 балл	<p>Задание 1.1. В какой части текста можно узнать об использовании воды из озера Кисегач? Отметь верное.</p> <ul style="list-style-type: none"><input type="checkbox"/> Озеро с крутыми берегами<input type="checkbox"/> Дом отдыха «Кисегач»<input type="checkbox"/> Курорт озера Кисегач<input type="checkbox"/> Источник питьевой воды<input type="checkbox"/> Памятник природы<input type="checkbox"/> Животные озера<input type="checkbox"/> Благоприятный климат<input type="checkbox"/> Глубокое озеро

Задание 2. Озеро Кисегач ценят южноуральцы и гости Чебаркульского района Челябинской области, западный берег озера имеет знаменитого на весь мир природного соседа. К какой части текста эта фотография является подтверждением данных слов?



1 балл

Запиши номер части текста: _____

Задание 2.1. Что можно узнать об озере Кисегач из текста и по фотографии? Отметь верные ответы.

- Площадь Ильменского заповедника.
- Место озера на карте и его форму.
- Названия всех островов озера.
- Глубину озера Кисегач.

2 балла

Задание 3. Женя прочитал текст и соединил стрелками год и события. Проверь его записи и отметь знаком ошибку мальчика.

<input type="checkbox"/> 1926 год	← Озеро признано официально памятником природы
<input type="checkbox"/> 1742 год	→ На берегу озера создан дом отдыха
<input type="checkbox"/> 1941–1945 года	→ Первое название озера - Кисегау
<input type="checkbox"/> 1969 год	→ В доме отдыха расположен военный госпиталь

1 балл

1 балл	<p>Задание 3.1. Подсчитай, сколько лет территория озера является памятником природы до начала 2022 года.</p> <p>Допиши ответ: _____.</p>
1 балл	<p>Задание 4. Интересно, а почему озеро считают глубоким? Отметь ответ знаком «+».</p> <p><input type="checkbox"/> Средняя глубина около 10 метров.</p> <p><input type="checkbox"/> Есть глубокие места до 34 метров.</p> <p><input type="checkbox"/> Дно просматривается на глубину 4 метра.</p> <p><input type="checkbox"/> Есть глубокие места до 44 метров.</p>
1 балл	<p>Задание 4.1. Женя задумался, можно ли предложить разместить на гербе Челябинской области символ Ильменского заповедника, который граничит с озером Кисегач. Отметь верный ответ.</p> <p><input type="checkbox"/> Нет, так как заповедник был основан только в 1920 году.</p> <p><input type="checkbox"/> Нет, так как заповедник не единственная достопримечательность области.</p> <p><input type="checkbox"/> Да, так как о заповеднике знают во всем мире.</p> <p><input type="checkbox"/> Да, так как южноуральцы гордятся Ильменским заповедником.</p>
2 балла	<p>Задание 5. В тексте есть вопрос: «Чем привлекает отдыхающих озеро Кисегач?» Выбери подходящие ответы, отметь их знаком +.</p> <p><input type="checkbox"/> Глубина озера.</p> <p><input type="checkbox"/> Прекрасная местность (ландшафт).</p> <p><input type="checkbox"/> Чистый лечебный воздух.</p> <p><input type="checkbox"/> Короткий купальный сезон.</p>
1 балл	<p>Задание 5.1. О каких животных, обитающих на территории озера Кисегач, это научное описание: «Эти животные имеют водонепроницаемое оперение. Крылья длинные и широкие, хвост – короткий. На лапах имеются перепонки для легкого передвижения в воде. Оперение белое, кроме головы и крыльев, где есть темные пятна». Отметь верное знаком «+».</p> <p><input type="checkbox"/> утка <input type="checkbox"/> гусь <input type="checkbox"/> чайка <input type="checkbox"/> лебедь</p>

<p>Задание 6. Кристина прочитала содержание текста «Озеро Кисегач» и написала: «Разнообразны животные озера Кисегач и его окрестностей. Здесь можно встретить чайку и дикую утку, рака и осьминога, щуку и скумбрию, ерша и окуня».</p> <p>В предложении Кристины подчерки, кого на самом деле можно увидеть на территории озера Кисегач.</p>	2 балла																				
<p>Задание 6.1. На каком рейсе автобуса пассажиру выгоднее и быстрее доехать из Челябинска в Чебаркуль, чтобы посмотреть памятник природы – озеро Кисегач?</p> <table border="1" data-bbox="127 683 1264 952"> <thead> <tr> <th>№</th> <th>Время отправления</th> <th>Время в пути</th> <th>Цена билета</th> </tr> </thead> <tbody> <tr> <td>1</td> <td>07:35</td> <td>1 ч 30 мин</td> <td>220 руб.</td> </tr> <tr> <td>2</td> <td>07:50</td> <td>1 ч 30 мин</td> <td>225 руб.</td> </tr> <tr> <td>3</td> <td>08:15</td> <td>1 ч 25 мин</td> <td>223 руб.</td> </tr> <tr> <td>4</td> <td>09:10</td> <td>1 ч 20 мин</td> <td>220 руб.</td> </tr> </tbody> </table> <p>Ответ: № _____.</p>	№	Время отправления	Время в пути	Цена билета	1	07:35	1 ч 30 мин	220 руб.	2	07:50	1 ч 30 мин	225 руб.	3	08:15	1 ч 25 мин	223 руб.	4	09:10	1 ч 20 мин	220 руб.	1 балл
№	Время отправления	Время в пути	Цена билета																		
1	07:35	1 ч 30 мин	220 руб.																		
2	07:50	1 ч 30 мин	225 руб.																		
3	08:15	1 ч 25 мин	223 руб.																		
4	09:10	1 ч 20 мин	220 руб.																		
<p>Задание 7. Текст назван «Озеро Кисегач». Выбери подходящее продолжение этого названия из предложенных вариантов, отражающее основную мысль текста, отметь знаком «+».</p> <p><input type="checkbox"/> в Чебаркульском районе</p> <p><input type="checkbox"/> в Челябинской области</p> <p><input type="checkbox"/> самое теплое озеро</p> <p><input type="checkbox"/> курортное место на Урале</p>	1 балл																				
<p>Задание 7.1. Не всегда есть возможность приехать на озеро Кисегач ребятам из других городов Челябинской области. Отметь две идеи, которые можно осуществить самостоятельно, чтобы больше узнать об озере и его окрестностях.</p> <p><input type="checkbox"/> Найти на карте Челябинской области озеро.</p> <p><input type="checkbox"/> Познакомиться с ребятами из Чебаркульского района.</p> <p><input type="checkbox"/> Прочитать интересную информацию в Википедии об озере Кисегач.</p> <p><input type="checkbox"/> Создать виртуальную экскурсию об озере Кисегач.</p>	2 балла																				

2 балла

Задание 8. Что можно узнать из текста «Озеро Кисегач»? Из перечисленного выбери только необходимое и допиши предложение:

где расположено озеро, что означает в переводе с башкирского языка, глубину озера, количество островов на озере, о базах отдыха на озере, стоимость проживания, обитателей озера, год открытия первого дома отдыха на озере, о купальном сезоне на озере, расписание электричек
Из текста «Озеро Кисегач» можно узнать следующее:

2 балла

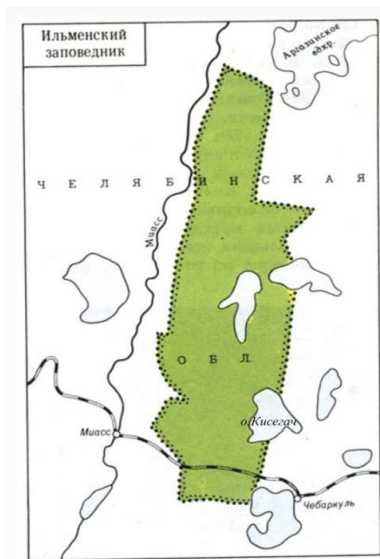
Задание 8.1. Что из перечисленного содержит в себе записи чисел? Подчеркни.

где расположено озеро, что означает в переводе с башкирского языка, глубину озера, количество островов на озере, о базах отдыха на озере, стоимость проживания, обитателей озера, год открытия первого дома отдыха на озере, о купальном сезоне на озере, расписание электричек

2 балла

Задание 9. В какой части озера расположены его крупные острова? Закрась эту часть озера простым карандашом и отметь верное:

- на севере озера
- на востоке озера
- на юге острова
- на западе озера.



Задание 9.1. Старшеклассница Ирина с родителями и шестилетним братом решила приехать на электричке в Чебаркуль из Челябинска. Какова стоимость билетов до Чебаркуля для всей семьи, если известно, что взрослый билет стоит 227 рублей, а детский билет (до 7 лет) – 195 рублей.

Ответ: _____.

На сколько рублей больше семья потратит за такую поездку, когда брату исполнится семь лет?

Ответ: _____.

2 балла

Задание 10. Ребята из Миасса побывали на озере Кисегач в последнюю субботу июня. Пользуясь календарем, определи, в какой день состоялась экскурсия школьников.

ПН	ВТ	СР	ЧТ	ПТ	СБ	ВС
	1	2	3	4	5	6
7	8	9	10	11	12	13
14	15	16	17	18	19	20
21	22	23	24	25	26	27
28	29	30				

Запиши ответ: _____ июня.

1 балл

Задание 10.1. Купальный сезон для любителей поплавать в озере сравнительно недолгий. Пользуясь информацией в тексте и календарями, подсчитай, сколько дней можно будет купаться летом 2022 года.

ИЮЛЬ 2022 года

ПН	ВТ	СР	ЧТ	ПТ	СБ	ВС
				1	2	3
4	5	6	7	8	9	10
11	12	13	14	15	16	17
18	19	20	21	22	23	24
25	26	27	28	29	30	31

АВГУСТ 2022 года

ПН	ВТ	СР	ЧТ	ПТ	СБ	ВС
1	2	3	4	5	6	7
8	9	10	11	12	13	14
15	16	17	18	19	20	21
22	23	24	25	26	27	28
29	30	31				

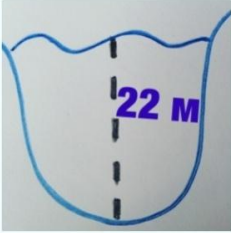
Ответ: _____ дней.

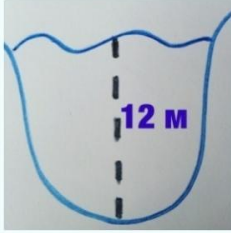
В какой месяц лета купальный сезон длится дольше? Напиши название месяца: _____.

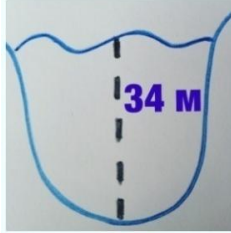
2 балла

Задание 11. Рассмотрите три рисунка. Отметьте знаком изображение средней глубины озера Кисегач.

1 балл











Задание 11.1. Какая загадка таится в названии озера? Заполни пропуски.

1 балл

Раньше озеро имело название _____. Сейчас название озера переводится с _____ языка, как озеро с _____ берегами.

Задание 12. Зоя прочитала в энциклопедии, что в озере Кисегач водится много разной рыбы. Рыбаков привлекают редкие для этих мест корюшка и сиг. Корюшка – небольшая рыбка с просвечивающим тельцем, брюшко и бока желтовато-белые, а плавники бесцветные или сероватого оттенка. Тело сига удлиненное, сильно сжато по бокам, покрытое мелкой чешуей. Спина сига почти всегда серебристого цвета с голубовато-зелеными бликами. Встречается и хищница-щука с плоской вытянутой головой и удлиненным телом. А тело язя толстое с укороченной головой, маленьким косым ртом и красноватыми плавниками. Соедини стрелками фотографии и названия рыб.

1 балл

	Язь
	Корюшка
	Сиг
	Щука

Задание 12.1. Изучи, используя таблицу, как зависит от возраста щуки её длина и вес.

ВОЗРАСТ	ДЛИНА	ВЕС, ГРАММЫ
1 год	24 см	150
2 года	38 см	400
5 лет	72 см	2500
13 лет	97 см	7000
15 лет	100 см	8000
20 лет	110 см	11 000
25 лет	125 см	17 000

2 балла

Допиши нужное:

Если длина щуки 97 см, ей может быть _____ лет.

Если рыбак поймал щуку весом 11 килограммов, ей может быть _____ лет.

Самооценка обучающегося по результатам
выполнения заданий репетиционной работы

№ задания	1.	1.1	2.	2.1	3.	3.1	4.	4.1	5.	5.1	6.	6.1	7.	7.1	8.	8.1	9.	9.1	10.	10.1	11.	11.1	12.	12.1
Баллы	1	1	1	2	1	1	1	1	2	1	2	1	1	2	2	2	2	2	1	2	1	1	1	2
Результат выполнения																								
Отметь то задание галочкой (✓), которое при выполнении вызвало у тебя затруднение																								

Мною достигнут успех в выполнении заданий репетиционной работы, так как общее количество баллов за их выполненные составило.....

Я достигну лучших результатов в выполнении репетиционной работы, если научусь выполнять задания, которые для меня были трудными...

№№ _____

Текст к репетиционной работе № 4

Зима на Южном Урале

Всё в природе находится в постоянном движении и изменении. Эти изменения называются природными явлениями. Давайте вместе с вами вернёмся в зиму и узнаем о главных особенностях этого периода года в нашей местности.

Зима на Южном Урале начинается тогда, когда перестает таять выпадающий снег. Она может длиться около пяти месяцев – с ноября по март. Зимние дни короткие, ведь солнце находится низко над горизонтом. А 21 декабря – самая длинная ночь в году (день зимнего солнцестояния), её продолжительность – 16 часов 52 минуты!

В начале декабря бывают морозы до -20 градусов. С приходом января морозы случаются до -28 градусов, дуют сильные ветры, часты снегопады. С наступлением февраля на ярком небосводе появляется солнышко, принося людям радостное настроение. Хотя холодно, до -18 градусов. Ветры по-прежнему дуют сильные, а вот снега выпадает намного меньше.

Растения зимой находятся в состоянии зимнего покоя. Некоторые травы, например, одуванчик и пастушья сумка, находятся под снегом зелёными всю зиму.

Самым голодным месяцем для птиц и зверей является февраль. От зимней стужи их спасают пушистое оперение и теплая шерсть. А вот еду добывать становится труднее. Только сытые птицы и звери не замерзают в холодную погоду.

Зимние морозы в нашей местности могут показать себя и в марте. Зима запугивает метелями и вьюгами. Но уже начинается таяние снега, все ждут весну.

Текст «Зима на Южном Урале» вторично напечатан во вкладыше, его необходимо открепить из центра сборника и для комфортного и успешного выполнения заданий репетиционной работы положить рядом с задачами формулировками.

Задания к репетиционной работе № 4

Задание 1. Этот текст состоит из шести частей. Поставь порядковые номера у первых четырех заголовков плана текста:

- Жизнь растений зимой
- Особенности зимы на Южном Урале
- Постоянные изменения в природе
- Погода зимних месяцев
- Суровая жизнь птиц и зверей
- В ожидании весны

1 балл

Задание 1.1. В какой части текста «Зима на Южном Урале» можно узнать о продолжительности зимы на Южном Урале? Отметь верное.

- Жизнь растений зимой
- Особенности зимы на Южном Урале
- Постоянные изменения в природе
- Погода зимних месяцев
- Суровая жизнь птиц и зверей
- В ожидании весны

1 балл

Задание 2. К какой части текста можно отнести эту фотографию?



Запиши номер части текста: _____.

1 балл

Задание 2.1. Что узнали ребята о зимней жизни птиц в нашей местности из текста и по фотографии? Отметь верные ответы.

- Какие птицы остались зимовать в нашей местности.
- Что спасает птиц от холода в зимний период.
- Чем подкармливать синиц в зимний период года.
- Какую еду птицы добывают зимой сами.

2 балла

Задание 3. Виктор, прочитав текст, установил соответствия, представленные ниже. Проверь его записи и отметь знаком ошибку мальчика.

1 балл

<input type="checkbox"/> – 20°C	Продолжительность зимы на Южном Урале
<input type="checkbox"/> февраль	Средняя температура в январе
<input type="checkbox"/> 150–170 дн.	День зимнего солнцестояния
<input type="checkbox"/> 21 декабря	Самый голодный месяц для птиц и зверей

1 балл

Задание 3.1. Подсчитай, используя информацию текста, на сколько градусов меняется температура в самые холодные дни января и февраля. Допиши ответ: _____ градусов.

1 балл

Задание 4. Как сильно зимой промерзает земля? Ученые выяснили, что температура под снегом выше на 17 градусов, чем над снегом. Пользуясь информацией текста, запиши в таблицу № 1, какой будет температура земли под снегом в зимние месяцы.

Таблица №1

Зимние месяцы	Температура земли под снегом (°С)
декабрь	
январь	
февраль	

1 балл

Задание 4.1. Ребята задумались, как точно измерить глубину снега зимой. Отметь верный ответ.

- Можно встать на сугроб и понять его высоту.
- Можно лопатой разгрести снег и увидеть почву.
- Можно опустить линейку в снег до твердой поверхности.
- Можно найти место, где снега накопилось меньше всего.

Задание 5. Изучи содержание таблицы № 2. В ней зеленым цветом отмечены названия перелетных птиц нашего края, голубым цветом – зимующих птиц, а желтым цветом – кочующих птиц, которые прилетают на Южный Урал с далекого севера с наступлением холодов.

Таблица №2

КУКУШКИ	ВОРОБЬИ	ГРАЧИ
ДЯТЛЫ	СНЕГИРИ	СВИРИСТЕЛИ
КЛЕСТЫ	СТРИЖИ	СИНИЦЫ

1 балл

В предложениях, записанных ниже, есть скобки со словами. Подчеркни в них только верные по смыслу слова.

Раньше всех улетают в теплые края (синицы или стрижи). С появлением снега можно увидеть (грачей или снегирей). С нами зимуют разные птицы, например, (дятлы или кукушки). Кочующие птицы прилетают на Южный Урал с наступлением (холодов или тепла). К нам возвращаются после затяжной зимы (кочующие или перелетные) птицы.

Задание 5.1. О каких птицах, бывающих в наших лесах, это научное описание: «Птица небольшого размера, до 20 см, из отряда воробьиных. Отличается плотным коренастым сложением, коротким раздвоенным хвостом, большой головой и особым клювом, половинки которого загнуты и сдвинуты в разные стороны, образуя крест. Обитает в хвойных лесах».

1 балл

свиристели снегиря стрижи клесты

Задание 6. Артем прочитал содержание текста «Зима на Южном Урале» и написал небольшой рассказ. В предложениях Артема допиши в слово «НЕ» там, где это необходимо.

Зима в нашей местности всегда длится пять месяцев. Солнце зимой всегда находится низко над горизонтом. К концу ноября всегда температура воздуха –10 градусов. В декабре всегда бывают морозы. Птиц и зверей всегда спасает от зимней стужи пушистое оперение и теплая шерсть. В нашей местности зима всегда заканчивается в феврале.

2 балла

1 балл

Задание 6.1. Учёные установили, что самый «теплый город» в Челябинской области – Бреды. Днём там может быть теплее на два градуса, чем в других местах области. На каком вечернем рейсе автобуса пассажиру выгоднее доехать из Челябинска в Бреды, чтобы узнать о нём больше?

№	Время отправления	Место отправления	Время в пути	Цена билета
1	13:40	Автовокзал "Южные ворота"	5ч 40 мин	749 руб.
2	19:20	Автовокзал "Южные ворота"	5ч 40 мин	827 руб.
3	19:20	Автостанция Южная (Областная больница)	5 ч 22 мин	827руб.

Ответ: № _____.

1 балл

Задание 7. Текст назван «Зима на Южном Урале». Выбери другое подходящее название из предложенных вариантов, отражающее основную мысль текста, отметь знаком «+».

- Самая холодная температура года
- Зима в Челябинске
- Жизнь растений и животных зимой
- Зимние изменения в природе нашего края

2 балла

Задание 7.1. После сильных снегопадов кормушки для птиц может засыпать снегом. Отметь две идеи, как лучше готовить зимние кормушки в нашей местности.

- В кормушке нужны стены с четырех сторон и одно окно.
- В кормушке должны быть стены и закрывающаяся дверца.
- Высота кормушки должна быть чуть больше роста птиц.
- Крыша кормушки должна быть шире, чем её дно.

2 балла

Задание 8. Известно, что каждые сутки продолжительность ночи увеличивается или уменьшается на 2 минуты. Тебе известно, сколько длится ночь 21 декабря. Запиши продолжительность ночей в эти даты:

- 19 декабря – _____
- 20 декабря – _____
- 21 декабря – 16 ч 52 мин
- 22 декабря – _____

Задание 8.1. Какие уличные мероприятия для жителей возможны в зимний период времени? Подчеркни их названия.

катание с ледяных горок, лыжные соревнования, первый день Масленицы, праздник урожая, футбол на траве, хоккей, соревнования по волейболу

2 балла

Задание 9. Зимой в природе много событий и изменений. Они указаны в тексте. Под номерами перечислены некоторые из них.

- 1- прилетают снегири
- 2- самая длинная ночь
- 3- самый голодный месяц для животных
- 4- бывают снегопады
- 5- морозные дни до -28 градусов
- 6- выпадает меньше снега

Запиши в таблицу номера, соответствующие каждому месяцу.

ДЕКАБРЬ	
ЯНВАРЬ	
ФЕВРАЛЬ	

2 балла

Задание 9.1. Тебе известно, что есть разница в цене продуктов, которые продают в разный период года в магазинах нашей местности. Какие продукты будут стоить дороже зимой, чем осенью? Подчеркни их названия.

конфеты, морковь, капуста, печенье, свежие ягоды,

мёд, мороженое, огурцы, перец




2 балла

Задание 10. Пользуясь календарем, определи, в какой день недели был день зимнего солнцестояния в 2018 году.

ДЕКАБРЬ 2018 года						
ПН	ВТ	СР	ЧТ	ПТ	СБ	ВС
					1	2
3	4	5	6	7	8	9
10	11	12	13	14	15	16
17	18	19	20	21	22	23
24/ 31	25	26	27	28	29	30

Запиши ответ: _____.

1 балл

2 балла	<p>Задание 10.1. Автобус, перевозящий пассажиров летом, за 8 часов (один рабочий день) работы расходует 48 литров топлива. А в зимний период на 1 литр топлива больше за каждый час. Сколько литров топлива автобус расходует за семь зимних дней?</p> <p>Ответ: _____.</p> <p>На сколько литров топлива тратится больше для заправки автобуса за один зимний рабочий день, чем за один рабочий день летом?</p> <p>Ответ: _____.</p>
1 балл	<p>Задание 11. Рассмотрите три рисунка. Отметьте знаком <input checked="" type="checkbox"/> изображение термометра со средней температурой декабря в нашем крае.</p> <div style="display: flex; justify-content: space-around; align-items: flex-start;"> <div style="text-align: center;"> <input type="checkbox"/>  </div> <div style="text-align: center;"> <input type="checkbox"/>  </div> <div style="text-align: center;"> <input type="checkbox"/>  </div> </div>
1 балл	<p>Задание 11.1. Как ты думаешь, почему снег, собранный на автодорогах после снегопадов, нельзя оставлять на обочинах дорог? Отметьте знаком <input checked="" type="checkbox"/> две экологические причины.</p> <ul style="list-style-type: none"> <input type="checkbox"/> Снег на обочинах дорог затрудняет видимость водителям. <input type="checkbox"/> В снеге на обочинах дорог накапливается много вредных веществ. <input type="checkbox"/> Снег на обочинах дорог могут использовать дети как опасную горку. <input type="checkbox"/> Растаявший снег на обочинах дорог будет губить траву на газонах.
1 балл	<p>Задание 12. Изучи информацию о погоде за три дня.</p> <div style="display: flex; justify-content: space-around;"> <div style="background-color: #4a86e8; color: white; padding: 10px; border: 1px solid white;"> <p>17 января Ночь: -26 °С Утро: Снег День: -16 °С Вечер: Облачно</p> </div> <div style="background-color: #4a86e8; color: white; padding: 10px; border: 1px solid white;"> <p>18 января Ночь: -25 °С Утро: Ясно День: -15 °С Вечер: Ясно</p> </div> <div style="background-color: #4a86e8; color: white; padding: 10px; border: 1px solid white;"> <p>19 января Ночь: -28 °С Утро: Ясно День: -16 °С Вечер: Снег</p> </div> </div> <p>После отъезда домой из Челябинска гости нашей семьи написали о погоде, которая была в один из трех дней: «С утра мы отправились на прогулку</p>

по красивой пешеходной улице Кировке. Мы беспокоились, что будет холодно, ведь ночью температура воздуха была на 3 градуса ниже, чем в предыдущую ночь. Однако день был солнечный. К полудню температура воздуха понизилась по сравнению с предыдущим днем. Мы поехали в зоопарк. Там нам очень понравилось. К вечеру стало пасмурно, пошел сильный снег, и мы весело играли в снежки».

В какой день состоялась прогулка? Ответ: _____ января.

Продолжение задания 12

Задание 12.1. Как много у нас любителей зимней рыбалки! Им важно знать толщину льда. Изучи данные о некоторых озёрах:

Название озера	Занимает площадь	Наибольшая глубина	Толщина льда зимой
Силач	1860 га	4 метра	90 см
Киреты	738 га	5 метров	90 см
Большие Касли	1896 га	7 метров	112 см
Иртяш	6180 га	12 метров	85 см

2 балла

Отметь знаком два верных высказывания:

- Чем глубже озеро, тем тоньше лёд зимой.
- Толщина льда зимой не всегда зависит от глубины озера.
- Чем больше площадь озера, тем толще лёд зимой.
- Толщина льда зимой не всегда зависит от площади озера.

Самооценка обучающегося по результатам выполнения заданий репетиционной работы

№ задания	1.	1.1	2	2.1	3	3.1	4.	4.1	5.	5.1	6.	6.1	7.	7.1	8.	8.1	9.	9.1	10.	10.1	11.	11.1	12.	12.1
Баллы	1	1	1	2	1	1	1	1	2	1	2	1	1	2	2	2	2	2	1	2	1	1	1	2
Результат выполнения																								
Отметь то задание галочкой (✓), которое при выполнении вызвало у тебя затруднение																								

Мною достигнут успех в выполнении заданий репетиционной работы, так как общее количество баллов за их выполненные составило.....	_____
Я достигну лучших результатов в выполнении репетиционной работы, если научусь выполнять задания, которые для меня были трудными...	№№ _____ _____

Готовимся к мониторингу учебных достижений в новой форме

МЕТАПРЕДМЕТНЫЕ РЕЗУЛЬТАТЫ
И ФУНКЦИОНАЛЬНАЯ ГРАМОТНОСТЬ:
контрольно-измерительные материалы. 4 класс
(Сборник диагностических и репетиционных работ)

Выпуск первый

Авторы:

Титаренко Наталья Николаевна,
Мельникова Дарья Владимировна

Ответственный за выпуск И. Г. Галкина

Корректор О. Б. Адаева

ISBN 978-5-8093-0069-8

© ООО«ЮжУралИнформ», 2022

АНО ДПО «Инновационный центр "РОСТ"»
454007 г. Челябинск, ул. Горького, д. 8
8 (351) 775–31–32

Подписано в печать 02.03.2022 г.
Формат 60x90¹/₈ Бумага офсетная. Усл. печ. л. 9,5
Тираж 1000 экз. Заказ № _____
Отпечатано в соответствии с оригинал-макетом
в ОА «ИПП «Уральский рабочий»
620990, г. Екатеринбург, ул. Тургенева, 13
<http://www.uralprint.ru>, e-mail: sales@uralprint.ru